

İLKOKUL 2.SINIF

HAFTALIK EV ÖDEVİ
8-12 Haziran



SIİRT İL MİLLİ EĞİTİM MÜDÜRLÜĞÜ
2020

Küçük Mustafa tertemiz bir çocuktur. Altın saçlı, mavi gözlü bu çocuğu herkes severdi. Komşuları, “Zübeyde Hanım’ın oğluna bakın, ne temiz giyiniyor.” derlerdi. Küçük Mustafa’nın en sevdiği şey, bahçede bulunan dut ağacına çıkmaktır.

İlk 3 soruyu metne göre cevaplayınız.

1. Yukarıdaki metinde Mustafa ile ilgili hangi bilgi çıkarılamaz?

- A) Matematik dersini çok sevmektedir.
- B) Temiz ve bakımlı bir çocuktur.
- C) Sarı saçlı, mavi gözlü bir çocuktur.

2. Yukarıdaki metnin konusu aşağıdakilerden hangisidir?

- A) Mustafa Kemal’in eğitim hayatı
- B) Mustafa Kemal’in çocukluğu
- C) Kurtuluş Savaşı

3. Mustafa’nın hangi özelliği komşularının dikkatini çekmiştir?

- A) Dut ağacına çıkması
- B) Mavi gözlü oluşu
- C) Temiz ve bakımlı olması

Nuray bu akşam odasında temizlik yaptı.

4. Yukarıdaki cümlede hikâyenin unsurlarından olan zaman ve olay sırasıyla aşağıdakilerden hangisidir?

- A) Bu akşam – Ders çalışmak
- B) Nuray - Odada
- C) Bu akşam – Temizlik yapmak

5. Aşağıdaki cümlelerin hangisinde eş anlamlı kelimeler bir arada kullanılmıştır?

- A) Al yanaklı, kırmızı ceketli birisini arıyorum.
- B) Ödevimi zamanında yaparım.
- C) Yaz kış demeden çalışır.

6. Aşağıdaki cümlelerin hangisinde “neden?” sorusunun cevabı yoktur?

- A) Komşuların gürültüsünden uyuyamadım.
- B) Para kazanmak için çalışıyor.
- C) Dikkatli olursan başarılı olursun.

Minik serçe güzeldi, hoştu, çok tatlı ve cana yakındı. Âmâ kötü bir huyu vardı: Yalancının biriydi.

Bu kötü huyu yüzünden bütün arkadaşlarını kaybetmişti. Günlerden bir gün Minik serçe yuvasından havalandı. Uçtu uçtu, yükseklerle çıktı...

7. Yukarıdaki metne göre, minik serçenin bütün arkadaşlarını kaybetmesinin sebebi nedir?

- A) Arkadaşlarından ayrılması
- B) Yalan söylemesi
- C) Cana yakın olması

Atatürk, çocuklardan Belkis() ı kucığına aldı() Belkis ise ilgisini Atatürk'ün yanında getirdiği köpeğine yöneltmişti. Atatürk:
- Beni mi seviyorsun, yoksa köpeği mi ()?

8. Paragrafta () ile belirtilen yerlere sırasıyla hangi noktalama işaretleri konmalıdır?

- A) (,) (,) (.)
- B) (') (,) (.)
- C) (') (.) (?)

Evcil hayvanların birçok yararı vardır.
Örneğin besin elde etmek, güvenliği sağlamak, yük taşımak...

9. Yukarıdaki paragrafta altı çizili kelimenin kullanım amacı aşağıdakilerden hangisidir?

- A) Karşılaştırma yapmak
- B) Sebep göstermek
- C) Açıklama yapmak

gördüklerim

güzellik

gelirken

10. Yukarıdaki kelimelerden hangisinde alt satıra geçerken yanlış ayrılmıştır?

- A) Gördüklerim
- B) Güzellik
- C) Gelirken

11. "Aynı işten bir kere zarar gören kişi ikinci sefer daha dikkatli olur."

Anlamına gelen atasözü aşağıdakilerden hangisidir?

- A) Akla gelmeyen başa gelir.
- B) Ava giden avlanır.
- C) Sütten ağzı yanan yoğurdu üfleyerek yer.



Umut

“ Büyük pastayı, yuvarlak tabağa koydu.”

12. Umut'un cümlesinde **varlığın özelliğini** belirten kelimeler hangisidir?

- A) büyük – yuvarlak
- B) pasta – tabak
- C) büyük – pasta

13.



Aşağıdaki ifadelerden hangisi doğrudur?

- A) Tarihlerin yazımında gün, ay, yıl sayılarının arasına nokta konur.
- B) Tümcelerın sonuna her zaman nokta konur.
- C) Özel adlara gelen ekler bitişik yazılır.



Ali

Yolculuğunuz sırasında Sinoptan sonra Tokat'a da uğrayacak mısınız?



Ömer

Yolculuğunuz sırasında Sinoptan sonra Tokat'a da uğrayacak mısınız?



Murat

Yolculuğunuz sırasında Sinop'tan sonra Tokat'a da uğrayacak mısınız?

14. Yukarıdaki öğrencilerin yazdığı cümlelerden hangisi yazım ve noktalama bakımından **doğrudur**?

- A) Ali
- B) Ömer
- C) Murat

Derse – bugün – teneffüs – kaldım –geç

15. Yukarıda yazılı kelimelerinden anlamlı bir cümle oluşturursak hangi kelime **kullanılmaz**?

- A) derse
- B) bugün
- C) teneffüs

16. Ocak kelimesi aşağıdaki hangi cümlede **farklı** anlamda kullanılmıştır?

- A) Bu sene ocak ayında çok kar yağdı.
B) Ablam ocakta yemeği unutunca dibine tutmuş.
C) Yılın ilk ayı ocaktır.

17. "Diz" kelimesi aşağıdaki hangi cümlede vücudumuzun bir parçası anlamında kullanılmıştır?

- A) Azra yıkadığı bardakları rafa dizdi.
B) Kenan oyunda taşları üst üste dizdi.
C) Hasip bisikletten düşünce dizi kanadı.



Fatma

bu sabah Ömerin köpeği pamuk'u gördün mü.

18. Fatma'nın cümlesinde kaç tane yazım ve noktalama yanlışı vardır?

- A) 4
B) 3
C) 2

"Ebru yüzüne krem sürdü."

19. Aşağıdaki hangi cümledeki **yüz** kelimesi yukarıdaki cümledekiyle aynı anlamdadır?

- A) Berat, Ömer'in yüzüne tokat attı.
B) Esra yüz kere ip atladı.
C) Miray'ın babası kurbanlık koyunu yüzdü.

- 1- Annem gidip açtı.
- 2- Çok gürültü yaptığımızı söyledi.
- 3- Gürültüyle oynarken kapının zili çaldı.
- 4- Gelen ev sahibimizdi.
- 5- Kendimizi suçlu hissettik.

20. Yukarıdaki olayların oluş sırasına göre sıralaması hangi seçenekte verilmiştir?

- A) 3-4-1-5-2
B) 3-1-4-2-5
C) 1-3-2-4-5

Cevap Anahtarı

1-A

2-B

3-C

4-C

5-A

6-C

7-B

8-C

9-C

10-A

11-C

12-A

13-A

14-C

15-C

16-B

17-C

18-A

19-A

20-B

1. Yanda verilen işlemlere göre,

■ ve ●'nin farkı kaçtır?

$$\square + 44 = 82$$

$$74 - \bigcirc = 40$$

- A) 72 B) 4 C) 62




2. Benim yaşımı en yakın olduğu onluğa yuvarlarsak yetmiş oluyor. Diyen biri aşağıdakilerden hangisi olabilir?

- A) B) C)



3. Yanda verilen görselin simetrisi, aşağıdakilerden hangisidir?



- A)  B)  C) 

4. Enes her gün 12 soru çözmektedir. Enes bir haftada kaç soru çözer?

- A) 84 B) 19 C) 74

5. Aşağıdaki seçeneklerin hangisinde "güz" mevsiminin ayları doğru verilmiştir?

- A) Ekim, Kasım, Aralık
B) Eylül, Ekim, Kasım
C) Ağustos, Eylül, Ekim



6. Yukarıdaki dede torun konuşmasına göre, okulların açılmasına kaç gün kalmıştır?

- A) 35 B) 44 C) 47

7. Yandaki çıkarma işlemine göre,

$$\begin{array}{|c|} \hline \text{100} \\ \hline \end{array} - \begin{array}{|c|} \hline \text{60} \\ \hline \end{array} = \begin{array}{|c|} \hline \text{40} \\ \hline \end{array}$$

verilmeyen sayı kaçtır?

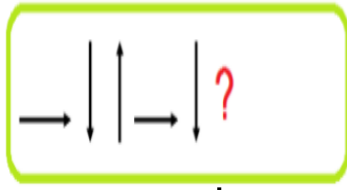
- A) 31 B) 23 C) 54

8. Yanda verilen ardışık çıkarma işlemi ile ilgili, aşağıdakilerden hangisi söylenemez?

$$\begin{array}{r} 12 - 3 = 9 \\ 9 - 3 = 6 \\ 6 - 3 = 3 \\ 3 - 3 = 0 \end{array}$$

- A) Bölüm bölenden fazladır.
B) Bölen sayı 3'tür.
C) Bölünen ile bölümün toplamı 15'tir

9. Yanda verilen örüntüye göre, soru işareti yerine hangisi gelmelidir?



- A) \longrightarrow B) \uparrow C) \downarrow

10.

Benim kalemlerimin sayısı 3 birlik, 2 onluktan oluşuyor.

Enes

Benim bir deste kalemim var.

Sema

Benim bir düzine kalemim var.

Ali

Yukarıda öğrencilerin verdiği bilgilere göre, üçünün kalemleri toplamı kaçtır?

- A) 42 B) 45 C) 54

11. Yanda verilen işlemin sonucunun iki basamaklı bir sayı olduğu biliniyor.

$$93 + \text{●}$$

Buna göre ● 'nin değeri aşağıdakilerden hangisi olamaz?

- A) 5 B) 6 C) 7

12.



Yukarıdaki nesnelerin uzunluğu ile ilgili, verilen bilgilerden hangisi yanlıştır?

- A) Silgi ile açacağıın uzunlukları toplamı 5 cm'dir.
B) Kalem uzunluğu 9 cm'dir.
C) Kalem açacaktan 8 cm uzundur.

Silindir ve koninin köşesi yoktur.

Üç tane küpü üst üste koyarsam kare prizma oluşur.

Üçgen prizmayı kullanarak sadece üçgen çizebilirim.

13. Yukarıdaki tabloda verilen bilgileri "DOĞRU YANLIŞ" şeklinde yazarsam tablonun görünümü nasıl olur.

- A) B) C)



14. "2 ve 6" rakamlarını kullanarak yazılabilecek en büyük ve en küçük sayıların farkı kaç olur?

- A) 4 B) 88 C) 36

15. Yandaki şekli saat yönünde 3 çeyrek tur döndürürsek, yeni şekil nasıl olur?



- A)
- B)
- C)

16. Aşağıdakilerden kaç tanesini metre ile ölçeriz?

- Ağacın boyu
- Evimizin duvarı
- Buzdolabı
- Silgi
- Kitap
- Sınıfımızın genişliği
- Kalemimizin uzunluğu

- A) 6 B) 5 C) 4

17.



Yukarıda belirtilen her ağacın arasında 3 metre uzaklık vardır.

Buna göre, ilk ve son ağaç arasında kaç metre uzaklık vardır?

- A) 18 B) 21 C) 15

18. Fatma Öğretmen evde yaptığı 20 keki 5 öğrencisine paylaşmak istiyor. Her bir öğrencisine kaç kek düşer?

- A) 3 B) 4 C) 5

Aşağıda bir çiftlikte bulunan hayvanların sayısı çetele tablosunda gösterilmiştir.

Çetele Tablosu	
Hayvan Türü	Hayvan Sayısı
Köpek	
Kedi	
Tavuk	
Koyun	

(Not: 19 ve 20. Soruları verilen çetele tablosuna göre cevaplayınız.)

19. Tabloda verilen bilgilere göre, aşağıdakilerden hangisi söylenemez?

- A) Çiftlikte bulunan tavukların sayısı köpeklerden fazladır.
- B) Bu çiftlikte 56 hayvan bulunur.
- C) Bu çiftlikte 12 koyun vardır.

20. Tabloda bulunan tavukların, toplam kaç ayağı vardır?

- A) 44
- B) 88
- C) 40

C e v a p A n a h t a r ı

- 1.B
- 2.A
- 3.B
- 4.A
- 5.B
- 6.C
- 7.A
- 8.C
- 9.B
- 10.B
- 11.C
- 12.C
- 13.A
- 14.C
- 15.B
- 16.C
- 17.A
- 18.B
- 19.C
- 20.A

I. Sınıfa girerken geç kalmışsam özür dilerim.

II. Koridorlarda koşmam.

III. Okul bahçesine çöp atmam.

IV. Söz almadan konuşurum.

V. Okula zamanında gelirim.

1. Sınıf panosuna okul kuralları yazılırken yazılmaması gereken kural veya kurallar aşağıdakilerden hangisidir?

A) I ve III

B) II ve V

C) IV

2. Fiziksel ve bireysel farklılıklarımıza saygı duyarsak arkadaşlarımız ile aramızda aşağıdakilerden hangisi olur?

A) Tartışma

B) Paylaşım

C) Bencillik



Miray

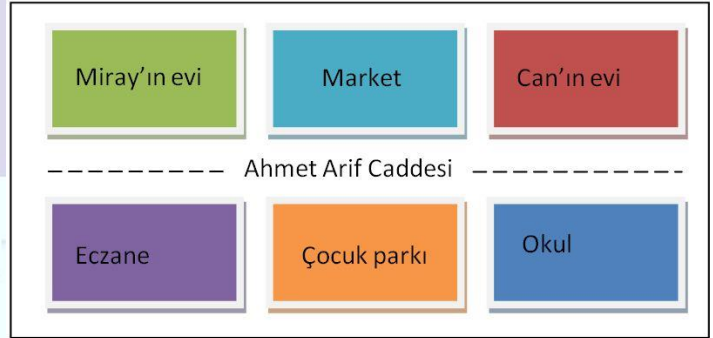
Aile içinde herkes benim önem verir''

3. Miray'ın söylediği cümlede boş bırakılan yere aşağıdakilerden hangisi getirilirse aile içi demokrasiye örnek verilebilir?

A) kıyafetlerime

B) fikirlerime

C) temizliğime



4. Yukarıdaki krokiye göre Miray'ın evine en uzak olan aşağıdakilerden hangisidir?

A) Can'ın evi

B) Market

C) Okul



Ömer

İzlediğim film bitince
televizyonu kapatırım.

5. Ömer için aşağıdakilerden
hangisi söylenebilir?

- A) Aile bütçesini düşünen
- B) İsraf eden
- C) Savurgan

Planlı olmak

Acelecilik olmak

Sabırlı olmak

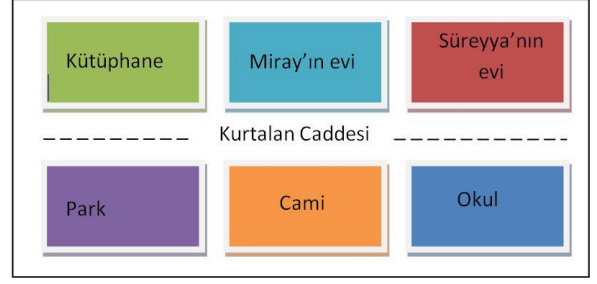
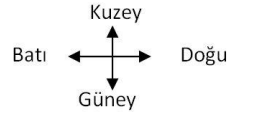
Çalışkan olmak

6. Başarılı olabilmek için yukarıda
söylenenlerden kaç tanesine sahip
olmak gereklidir?

- A) 2
- B) 3
- C) 4

7. İhtiyacımızdan daha fazla besin
alırsak aşağıdaki sorunlardan
hangisi ile karşılaşırız?

- A) sağlıklı oluruz
- B) şişmanlarız
- C) zayıflarız



8. Krokiye göre aşağıda verilen
bilgilerden hangisi **yanlıştır**?

- A) Süreyya'nın evi, Miray'ın evinin doğusundadır.
- B) Park, caminin batısındadır.
- C) Kütüphane, parkın güneyindedir.

Can: Geç saatlerde yatağa geçip
tablette oyun oynarım.

Seher: Annemin telefonu şarjda iken
de kullanırım.

Baran: Bilgisayarda çalışırken yiyecek
ve içecekleri yememeye çalışırım.

9. Yukarıdaki çocuklardan hangisi
elektrikli aletleri güvenlik
kurallarına uygun kullanmaktadır?

- A) Can
- B) Seher
- C) Baran

10. Hangisi toplu taşıma aracı
değildir?

- A) 
- B) 
- C) 

11. Hırsızlık olayı olduğunda aşağıdakilerden hangisini aramalıyız?



12. Hava çok sıcak olur. Karpuz ve kavun en çok bu mevsimde yetişir. İnsanlar serinlemek için denize girer.

Ben mevsimiyim.

Yukarıda boş bırakılan yere aşağıdaki sözcüklerden hangisi gelmelidir?

A) Sonbahar B) İlkbahar C) Yaz

I. Ülkemizin üç tarafı denizlerle kaplıdır

II. Ülkemizin en büyük gölü Van Gölü'dür

III. Ankara'nın denize kıyısı vardır.

IV. İzmir yurdumuzun en çok nüfusa sahip ilidir.

13. Ülkemiz ile ilgili verilen bilgilerden hangisi veya hangileri yanlıştır?

- A) I ve III
B) II ve IV
C) III ve IV

14.



- Benim yaşadığım şehir ülkemizin başkentidir.
- TBMM benim yaşadığım şehirdedir.

Hasan'ın verdiği bilgilere göre Hasan hangi şehirde yaşamaktadır?

- A) İstanbul
B) Ankara
C) Siirt

15.



Canan; canlıların korunması ilgili bir konu hazırlamaktadır. Yukarıda numaralandırılmış görsellerden hangisini **olumsuz** bir örnek olarak kullanabilir?

- A) 1
B) 2
C) 3

16.

Çivi - Gazete - Plastik bardak -
Domates - Kitap

**Yukarıda verilenlerden kaç tanesini
geri dönüşüm için kullanabiliriz?**

- A) 5 B) 4 C) 3

17. Havadaki su buharının , sıcaklığın etkisi ile su damlacıklarına dönüşerek yeryüzüne olarak düşer.

**Verilen cümlede boş bırakılan yere
aşağıdakilerden hangisi gelmelidir?**

- A) kar
B) dolu
C) yağmur

18. Dünyanın kendi etrafında bir kez dönmesi sonucunda aşağıdakilerden hangisi gerçekleşmektedir?

- A) bir gün
B) bir yıl
C) bir mevsim

19.



Benim pencerem
sabahları çok ışık alıyor.

**Ali'nin verdiği bilgiye göre Ali'nin
penceresi hangi yöne bakmaktadır?**

- A) Kuzey B) Güney C) Doğu

20.

Sel	Trafik Kazası	Çığ
Erozyon	Tsunami	Kasırga

**Yukarıda verilenlerden hangisi doğal
afet değildir?**

- A) Tsunami
B) Trafik Kazası
C) Çığ

Cevap Anahtarı

1-C

2-B

3-B

4-C

5-A

6-B

7-B

8-C

9-C

10-C

11-A

12-C

13-C

14-B

15-C

16-B

17-C

18-A

19-C

20-B

1. What is it?

- A- A dog
- B- A cat
- C- A bird



2. How many fish are there?



- A- four
- B- seven
- C- five

3. Is it a rabbit?

- A- It is a
- B- Yes, it is.
- C- No, it isn't.



mouse.

4. Hello! I'm a

- A- duck
- B- turtle
- C- rabbit



.....

5. Where is the dog?

- A- It is on the box.
- B- It is in the box.
- C- It is under the box.



8. This is a

- A- rabbit
- B- mouse
- C- parrot



9. Aşağıdaki kelimelerin hangisi

DOĞRU yazılmıştır?

- A- mause
- B- brid
- C- turtle



10. How many dogs are there?

- A- There are three dogs.
- B- There is three dog.
- C- There are three dog.

11. Hello! My name is Jerry. I'm a

-
- A- parrot
- B- turtle
- C- mouse



12. Where is the
cat?



A- It is in the chair.

B- It is under the table.

C- It is under the chair.

13. Boşluğa aşağıdakilerden
hangisi getirilmelidir?

-?

- It is a hamster.

A- Where is the hamster?

B- What is it?

C- Is it a hamster?

14. - Where is the mouse?

- It is the box.

A- on

B- in

C- under



15. -

.....?

- It is in the cage.

A- How many birds?

B- Where is the bird?

C- What is this?



Answer Key

- 1- B
- 2- A
- 3- C
- 4- B
- 5- B
- 6- A
- 7- C
- 8- A
- 9- C
- 10- C
- 11- B
- 12- A
- 13- B

ÇALIŞMADA EMEĞİ GEÇEN ÖĞRETMENLERİMİZ

Abdurrahman CELAN Mehmet EKİNCİ

Seda AYDINLI Ekrem AYBEK

Kasım AYDIN

Bu çalışma Siirt Milli Eğitim Müdürlüğü öğretmenleri tarafından hazırlanmıştır. Emeklerinden dolayı teşekkür ederiz.