

ORTAOKUL 5.SINIF

HAFTALIK EV ÖDEVİ
8-12 Haziran



SIİRT İL MİLLÎ EĞİTİM MÜDÜRLÜĞÜ
2020

1) Aşağıda verilen cümlelerin hangisinde “sert” sözcüğü gerçek anlamda kullanılmıştır?

- A) Sert sözleri ile beni çok üzdü.
B) Üstü açık kalan ekmekler sertleşmiş.
C) Bugün rüzgâr çok sert esiyor.
D) İçeri girince herkese sert sert baktı.

- I. Kazağını nereden aldığını söylemedi?
II. Ellerini yıkadı, yemeğe oturdu!
III. Yarın 09.30’da okulda olmalıyım.
IV. Siz ne zaman geleceksiniz pikniğe.

2) Yukarıdaki cümlelerden hangisinde noktalama işaretleri doğru kullanılmıştır?

- A) I B) II C) III D) IV

3) Aşağıdaki cümlelerin hangisinde terim anlamda kullanılan bir sözcük yoktur?

- A) Tiyatro perdesi açılınca tüm oyuncular sahneye çıktı.
B) Bugün üçgenin açılarını öğrendik.
C) Flüt notalarını çabuk unutuyorum.
D) Saçına çok güzel bir toka takmıştı.

- I. Bu yıl tatile gitmeyeceğiz.
II. Bana verdiği hediyeyi çok beğendim.
III. Tahtadaki kelimeleri defterinize yazınız.
IV. Yapılan uyarıları dikkate almalıyız.

4) Aşağıdakilerden hangisi bu cümlelerdeki altı çizili sözcüklerden birinin anlamdaşı değildir?

- A) Armağan
B) Asır
C) Sözcük
D) İkaz

5) Aşağıdaki cümlelerin hangisinde soyut anlamda bir kelime kullanılmamıştır?

- A) Gökyüzü bulutlu, yağmur yağabilir.
B) Onu görünce sevinçten ne yapacağımı bilemedim.
C) Hep dürüst olmam gerektiğini söyler annem.
D) Rüyamda ne gördüğümü ertesi gün hatırlamıyorum.

- I. En iyi tatil, ormanda yapılan tatildir.
II. İzmir, tarihi ve doğal güzelliklerimizle eşsiz bir şehirdir.
III. Fatih Sultan Mehmet, İstanbul’u aldığıında 21 yaşındaydı.
IV. Makarnayı her zaman bayılarak yerim.

6) Yukarıdaki cümlelerden hangisi nesnel bir yargıdır?

- A) I B) II C) III D) IV

7) Aşağıdaki cümlelerden hangisinde geçiş ve bağlantı unsuru vardır?

- A) Birinciliği son saniyelerde kaçırdı.
- B) Onu bugün okula ben götürdüm.
- C) Senin ve onun başına bir hâl gelmesini istemiyorum.
- D) Koltukların yeşili çok güzeldi.

Çekim ekleri sözcüklere yeni anlam kazandırmaz; sahiplik, çokluk vb. anlamlar katar.

8) Buna göre “şeker” sözcüğüne aşağıdaki eklerden hangisi getirilirse sözcük yeni bir anlam kazanır?

- A) –den
- B) –ler
- C) –in
- D) –ci

Soğuk bir kış akşamıydı. Pencereden lapa lapa yağın karı izliyordum. Etraf çok sessiz ve karanlıktı. Annem sobayı yakmaya çalışıyordu. Alevlerin ışığı yüzüme yansırıyordu. Saatler ilerledikçe gözlerimden dökülen uykuya yenik düşüyordum.

9) Bu metin aşağıdaki yazı türlerinin hangisinden alınmış olabilir?

- A) Masal
- B) Hikâye
- C) Biyografi
- D) Gezi yazısı

10) Aşağıdaki cümlelerin hangisinde altı çizili sözcükte hâl eki yoktur?

- A) Elmayı dört kişiye paylaştırdık.
- B) Müdürümüz okula geç geldi.
- C) Konserde bütün arkadaşlarımı gördüm.
- D) Köpeği dün gece sitede kaybolmuş.

11) Aşağıdaki altı çizili kelimelerden hangisinin köküne “-mak/-mek” eki getirilebilir?

- A) Sanki gülüşünde bir hüzün var.
- B) Yarın aillece tatile gidiyoruz.
- C) Kedilerin maması bitmiş.
- D) Bizim çocuğa ne yapsak?

12) Aşağıdaki cümlelerin hangisinde altı çizili sözcük basit yapıdır?

- A) Bu kış çok soğuk geçti.
- B) Dün yeni bir gözlük aldım.
- C) Saatlerce kartopu oynadık.
- D) Odamdaki kitapları bugün topladım.

- I. Tatile gidebilmek için para biriktiriyordu.
- II. Temiz bir dünya istiyorsan yerlere çöp atma.
- III. Hasta olduğu için okula gelememiş.
- IV. Seni görmek için buraya geldim.
- V. Kar yağışından dolayı maç ertelendi.

13) Bu cümleler neden, amaç, şart ilişkisine göre ikişerli eşleştirildiğinde hangisi dışta kalır?

- A) I
- B) II
- C) III
- D) IV

Mustafa ile Ayşegül önde, Aydan'la Kübra arkada, güvenlik görevlisi ile Vedat en arkada Topkapı Sarayı'nın yeni açılan eski işlemler ve halılar müzesinden içeriye girdiler. Her nedense hepsinde tuhaf bir heyecan vardı. Çınar ağaçlarının altında miras keçeyi değnekle saatler saati dövdüğü, suya vurduğu, ıslattığı, tekrar kuruttuğu, tekrar dövdüğü günleri düşünüyordular.

14) Bu parçada aşağıdakilerden hangisi ile ilgili herhangi bir ayrıntı verilmemiştir?

- A) Olay
- B) Yer
- C) Zaman
- D) Kahramanlar

1. Ailem Siirtli ama ben burada, Batman'da, doğdum.
2. Ben mi? Diyarbakırlıyım.
3. Orayı hiç görmedim.
4. Siz nerelisiniz?
5. Nerelisiniz?

15) Yukarıdaki konuşmayı yapan öğrencilerin konuşmaları düşünce akışına göre sıralanırsa aşağıdakiler sıralamalardan hangisi daha uygun olur?

- A) 5-1-3-4-2
- B) 2-5-1-3-4
- C) 4-1-2-3-5
- D) 5-1-2-4-3

Evimden uzakta, annemden uzak.
Kimsesiz kalmışım yad ellerinde
Bir vefa ararım kalbe dolacak
Gurbetin yabancı ellerinde.

Enis Behiç Koryürek



16) Bu şiirin ana duygusu aşağıdakilerden hangisidir?

- A) Vefasız insanlar
- B) Memleket özlemi
- C) Anne sevgisi
- D) Yabancı güzellikler

Günümüzde el sanatlarına eskisi gibi rağbet edilmiyor. El sanatları, hızla gelişen teknolojinin karşısında tutunamıyor maalesef. Halk fabrikalarda seri ve ucuz çıkan ürünleri tercih ediyor artık. Bu yüzden el sanatları ustaları git gide azalmakta, bu meslekler yok olma tehlikesiyle karşı karşıya kalmaktadır.

17) Yukarıdaki paragrafta aşağıdakilerden hangisine değnilmemiştir?

- A) El sanatlarının yok olmak ile karşı karşıya olduğuna
- B) El sanatlarının yok olma nedenleri
- C) El sanatlarını kurtarma yollarına
- D) El sanatlarının eskisi gibi rağbet görmemesine

Karadeniz'in dağları cilveli
Karadeniz'dir denizlerin en güzeli.

18) Yukarıdaki dizelerde hangi söz sanatı kullanılmıştır?

- A) İntak
- B) Benzetme
- C) Tezat
- D) Kişileştirme

1. at
2. ozan
3. ayađı
4. dili
5. evik
6. abuk
7. olur

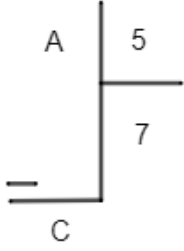
19) Numaralandırılmıř szcklerden anlamlı ve kurallı bir cmle oluřturulduđunda sıralama ařađıdakilerden hangisi olur?

- A) 1-3-6-2-4-5-7
- B) 2-3-6-1-7-5-4
- C) 5-1-3-2-6-4-7
- D) 3-2-4-7-5-1-6

20) Ařađıdaki cmlelerin hangisinde yazım veya noktalama yanlıřı yapılmamıřtır?

- A) Merdivenleri ađır, ađır ıktı.
- B) Elele verip bu iřin stesinden geliriz.
- C) Mdrmz kılık kıyafet ynetmeliđine uygun davranmamız gerektiđini syledi.
- D) Evi kře-bucak aradı ama kolyeyi bulamadı.

1)



Yandaki kalanlı bölme işlemine göre A doğal sayısı aşağıdakilerden hangisi olamaz?

- A) 37 B) 38
C) 39 D) 40

2) Halil, okuma kitabını her gün 42 sayfa okuyarak 20 günde bitirmiştir. Halil aynı kitabı günde 12 sayfa okuyarak kaç günde bitirirdi?

- A) 50 B) 90
C) 70 D) 110

3) Ayşe'nin kumbarasında 20 adet 25 kuruş ve bir miktarda 50 kuruşluk madeni paraları vardır. Kumbaradaki paraların toplamı 10 TL olduğuna göre, kaç adet 50 kuruşluk madeni parası vardır?

- A) 10 B) 20
C) 30 D) 40

4) $874A + 6B73 = 15020$ işlemine göre $A+B$ kaçtır?

- A) 7 B) 9
C) 8 D) 10

5) Bir çiftlikte toplam 43 tane tavuk ve tavşan bulunmaktadır. Bu çiftlikteki tavşanların ayak sayısı toplamı 80 olduğuna göre, çiftlikte kaç tane tavuk vardır?

- A) 20 B) 26
C) 23 D) 29

6) Aşağıdaki sayı doğrusunda birbirini takip eden her iki doğal sayı arası üç eş parçaya bölünmüştür.



Buna göre A noktasına karşılık gelen kesir aşağıdakilerden hangisidir?

- A) $\frac{10}{3}$ B) $\frac{10}{2}$
C) $\frac{12}{3}$ D) $\frac{12}{2}$

7) $\frac{19}{7}$ bileşik kesrinin tam sayılı kesir olarak yazılışı aşağıdakilerden hangisidir?

A) $1\frac{5}{7}$ B) $1\frac{3}{7}$

C) $2\frac{5}{7}$ D) $2\frac{6}{7}$

8) Aşağıdaki kesirlerden hangisi $\frac{1}{4}$ ile $\frac{1}{8}$ kesirleri arasındadır?

A) $\frac{2}{16}$ B) $\frac{3}{16}$

C) $\frac{4}{16}$ D) $\frac{5}{16}$

9) Süleyman, 320 tane bilyesinin; $\frac{1}{2}$ 'sini kardeşine, $\frac{1}{4}$ 'ünü de arkadaşlarına hediye etmiştir.

Buna göre Süleyman'ın geriye kaç bilyesi kalmıştır?

A) 80 B) 100

C) 110 D) 120

10) 250 kg domatesin her bir kilogramında ortalama 0,125 kilogramı çürük çıkmıştır. **Sağlam domatesler kaç kilogramdır?**

A) 249,775 B) 125,125

C) 218,75 D) 204,525

11) Bir okuldaki öğrencilerin %30 u spor yapmaktadır. Spor yapanların %25'i ise voleybol oynamaktadır. Okulda 120 öğrenci olduğuna göre voleybol oynayanların sayısı kaçtır?

A) 36 B) 18

C) 12 D) 9

12) 720 sayısının $\frac{5}{8}$ 'i kaçtır?

A) 400 B) 450

C) 480 D) 560

13) 856,741 ondalık gösterimindeki 4 rakamının basamak değeri kaçtır?

A) 0,004 B) 0,04

C) 0,4 D) 4

14) Murat Öğretmen 19 Mayıs Atatürk'ü Anma Gençlik ve Spor Bayram için görev yaptığı okula 500 adet Türk bayrağı getirmiştir. Bayrakların %40'ını 7.sınıflara, kalan bayrakların %10'u 6.sınıflara, en son kalan bayrakların hepsini ise 5.sınıflara dağıtmıştır. Bu durumda 5.sınıflara dağıtılan bayrak sayısı kaçtır?

A) 300 B) 30

C) 270 D) 150

15) Elbise almak isteyen Burcu etiket fiyatının %50 indirimli kampanyasını gördüğü bir mağazaya giriyor. Bir elbise beğenen Burcu ödeme yaparken indirimli fiyattan %8 KDV uygulandığını öğreniyor. Elbisenin etiket fiyatı 400 TL olduğuna göre Burcu kasada ne kadar para öder?

- A) 200 B) 208
C) 216 D) 192

16) 'Bütün dörtgenlerin iç açı ölçüleri toplamı Derecedir.' Cümlesinde noktalı bölüme kaç yazılmalıdır?

- A) 90 B) 180
C) 270 D) 360

17) Aşağıdaki ifadelerden hangisi doğrudur?

- A) Doğru parçası boyutsuzdur.
B) AB doğru parçası [AB şeklinde gösterilir.
C) Doğru parçasının iki ucu sınırlıdır.
D) Doğru parçasını bir ucu sınırlı diğer ucu sınırsızdır.

18) Ali'nin evi kütüphanenin 5 birim sağında 6 birim aşağısındadır. Kütüphane Ali'nin gittiği okulun 4 birim sağında ve 2 birim yukarısındadır. Buna göre Ali'nin gittiği okulun Ali'ye göre konumu aşağıdakilerden hangisidir?

- A) Ali'nin gittiği okul A'nın 9 birim sağında ve 4 birim aşağısındadır.
B) Ali'nin gittiği okul A'nın 1 birim sağında ve 6 birim aşağısındadır.
C) Ali'nin gittiği okul A'nın 9 birim solunda ve 4 birim yukarısındadır.
D) Ali'nin gittiği okul A'nın 1 birim solunda ve 6 birim yukarısındadır.

19) Bir çokgenin köşe sayısı aşağıdakilerden hangisi olamaz?

- A) 2 B) 7
C) 56 D) 2020

20) $|AB| = 56$ cm, $|MN| = 49$ cm

$|DE| = 61$ cm, $|KL| = 59$ cm

Yukarıdaki verilere göre aşağıdakilerden kaç tanesi yanlıştır?

- $|KL| < |MN|$
- $|MN| = |DE|$
- $|DE| < |KL| < |AB|$
- $|AB| > |MN| > |DE|$

- A) 1 B) 2
C) 3 D) 4



1) Bir gün içerisinde hem gece hem de gündüz yaşanır. Bu durum aşağıdakilerin hangilerinin sonucunda oluşur?

- I- Dünya'nın Güneş'e olan uzaklığı
II- Dünya'nın kendi etrafında dönmesi
III- Dünya'nın Güneş etrafında dönmesi

A) Yalnız I B) Yalnız II C) I-II D) I-III

Güneş bir yıldızdır.	
Güneş kendi etrafında doğudan batıya doğru döner.	
Güneş ısı ve ışık kaynağımızdır.	

2) Yukarıdaki tabloda verilen bilgilerden doğru olanların karşısına 'D' yanlış olanların karşısına 'Y' yazıldığında doğru cevap hangi seçenekteki gibi olur?

A) D-D-Y B) D-Y-D C) Y-D-D D) D-D-D

3) Dünya'dan bakıldığında Ay'ı gözlemleyemediğimiz evre aşağıdakilerden hangisidir?

- A) Yeni Ay
B) İlk dördün
C) Dolunay
D) Hilal

4) Güneş, Dünya ve Ay gibi gök cisimleri kendi eksenleri etrafında hareket etmektedir. Aşağıdaki seçeneklerden hangisinde Güneş' kendi eksen etrafında bir tam tur atması için gereken zamandır?

- A) 29,5 gün
B) 24 saat
C) 365 gün
D) 25 gün

5) Aşağıdakilerden hangisi bütün bitkilerde görülen ortak özelliktir?

- A) Üreme biçimi
B) Besin yapımı
C) Gövde yapısı
D) Yaşama süresi

- Yavrularını sütle besler
- Vücudu kıllarla kaplıdır.
-Yavru bakımı vardır.
- Doğurarak çoğalırlar.

6) Özellikleri verilen hayvan aşağıdakilerden hangisi olabilir?

- A) Güvercin
B) Penguen
C) Yarasa
D) Kelebek

- I- Nemli yerlerde yaşarlar
II-Kendi besinlerini kendileri üretir
III- Yiyecek olarak kullanılan türleri vardır.

7) Yukarıda verilenlerden hangileri mantarların özellikleridir?

- A) Yalnız I B) Yalnız II C) I-II D) I-III

- I. Kuvvetin büyüklüğü dinamometre ile ölçülür.
II. Kuvvetin birimi Newton'dur.
III. Kuvvet yönlü bir büyüklüktür.

8) Yukarıdaki ifadelerden hangileri doğrudur?

- A) Yalnız I B) I-II C) II-III D) I-II-III

9) Farklı kuvvetler aynı dinamometre ile ölçülmüş ve elde edilen değerler aşağıdaki tabloya kaydedilmiştir.

Kuvvet (N)	10	20	30	40	50
Uzama miktarı(cm)	2	4	6	7	9

Tabloya göre dinamometre aşağıdaki kuvvetlerden hangisini ölçemez?

- A) 10 N B) 45 N C) 30 N D) 25 N

10) Süblimleşme olayında madde hangi hâlden hangi hâle geçer?

- A) Katıdan gaza
B) Gazdan sıvıya
C) Sıvıdan katıya
D) Katıdan sıvıya

11) Aşağıda saf X maddesinin erime ve kaynama noktası verilmiştir.

Erime Noktası	Kaynama Noktası
0°C	100 °C

Buna göre verilen seçeneklerin hangisinde X maddesinin belirtilen sıcaklıktaki hali yanlış verilmiştir?

- A) 10 °C sıvı
B) 120°C gaz
C) 20°C katı
D) 60°C sıvı

12) Sıcaklıkları farklı iki madde bir araya geldiklerinde sıcaklığı yüksek olandan düşük olana ısı aktarımı gerçekleşir.

Aşağıdakilerden hangileri bu duruma örnektir?

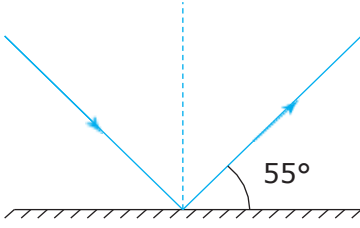
- I. Buzu elimize aldığımızda
II. Bardağa sıcak çay konulduğunda
III. Kolaya buz atıldığında

- A) Yalnız I
B) Yalnız I-III
C) Yalnız II-III
D) I-II ve III

13) Bir öğrenci iki ucu açık lâstik boru ile yanan mumun alevine bakıyor. Lâstik boru düz durumdayken mum alevini görebildiği halde, boru bükük olduğunda mum alevini görememektedir.

Öğrenci bu deneyi aşağıdakilerden hangisinin açıklamasında kullanabilir?

- A) Işık bir doğru boyunca yayılır.
B) Işık ışınları her yöne yayılır.
C) Işığın yayılma hızı ortamın cinsine bağlıdır.
D) Işık bazı cisimlerden düzgün olarak yansır.



14) Yukarıda gösterilen ışığın gelme açısı kaç derecedir?

- A) 45°
- B) 35°
- C) 55°
- D) 90°

15) Aşağıda verilen maddelerden hangisi üzerine düşen ışığın tamamının geçmesini sağlar?

- A) Tül perde
- B) İnce naylon
- C) Hava
- D) Beton

16) Aşağıda verilenlerden hangisi biyoçeşitliliği olumsuz etkileyen faktörlerden değildir?

- A) Küresel Isınma
- B) Aşırı nüfus artışı
- C) Tabiat parkı ve doğal yaşam alanı oluşturmak
- D) Doğal afetler

17) Biyoçeşitliliğin kaybı birçok şekilde olabilir.

Bunların en önemli ve geri dönüşümsüz olanı türlerin sayılarının yok olmasıdır. Türlerin yok olması doğal bir süreç sonucu olduğu gibi insan etkilerinin de bir sonucudur.

Aşağıdaki canlılardan hangisinin nesli henüz tükenmemiştir?

- A) Mamut
- B) Panda
- C) Dinazor
- D) Moa

18) Gürültülü ortamlarda çalışan insanlarda aşağıdakilerden hangilerinin olması beklenir?

I- Ruhsal gerginliğin

II- Geçici veya kalıcı sağırliğin

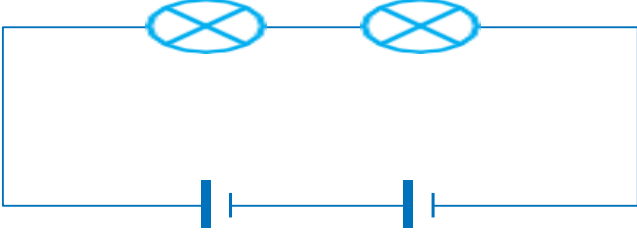
III- Yüksek sesle konuşma alışkanlığının

- A) Yalnız I
- B) I-II
- C) II-III
- D) I-II-III

Devre	Pil Sayısı	Lamba Sayısı
X	3	2
Y	3	3
Z	2	2

19) Yukarıdaki tabloya göre özdeş lamba ve pillerin kullanıldığı bir devrelerdeki ampul parlaklıklarını sıralayınız?

- A) $X > Y > Z$
- B) $X > Z > Y$
- C) $X > Y = Z$
- D) $Z = Y > X$



20) Yukarıdaki devrede verilen ampul parlaklığını artırmak için aşağıdakilerden hangisi yapılmalıdır?

- A) Pil sayısını sabit bırakıp devreye yeni ampul eklemek.
- B) Pil ve ampul sayısını birer azaltmak.
- C) Ampul sayısını sabit bırakıp devreye yeni pil eklemek.
- D) Pil ve ampul sayısını birer artırmak.



1) Anal adı verilen Hititlerin yazdığı yıllıklar hangi özelliği ile tarihte objektif yazıcılığı başlatmıştır?

- A) Belli kanunlara dayanması
- B) Yalan bilgiler içermesi
- C) Tanrıya hesap vermek için başarı ve başarısızlıklarını yazması
- D) Diğer uygarlıkların düşüncelerine göre yazılması

2) Zigurat adı verilen yapılar hangi görev için kullanılmamıştır?

- A) Saray
- B) Okul
- C) Rasathane
- D) Tapınak

3) 1- İyonlar demokratik bir yönetim anlayışına sahip değildi.

2- Frigler çok tanrılı bir din anlayışına sahipti.

3- Hipokrat, Pisagor gibi bilim insanları Hititler uygarlığının bilim insanlarıdır.

Hangisi veya hangileri doğrudur?

- A) 1 ve 2
- B) 1,2 ve 3
- C) Yalnız 2
- D) Yalnız 3

4) 1- Rahip krallar tarafından yönetilmiştir.

2- Şehir devletleri halinde yönetilmişlerdir.

3- Ay yılı takvimini icat etmişlerdir.

Sümerler uygarlığı ile ilgili hangisi veya hangileri doğrudur?

- A) 1 ve 3
- B) 1 ve 2
- C) Yalnız 1
- D) 1, 2 ve 3

5) Aşağıdakilerden hangisi bir olayın çok boyutluluğunu incelerken cevaplanması gereken sorulardan biri değildir?

- A) Olayın insanlara etkileri nedir?
- B) Olay nerede olmuştur?
- C) Olayın sonuçları nelerdir?
- D) Olay hangi insanları etkilemiştir?

6) Aşağıdakilerden hangisi, insanların yerleşik yaşama geçişini sağlamıştır?

- A) Ateşin bulunması
- B) Tarımsal faaliyetlerin başlaması
- C) Hayvanların evcilleştirilmesi
- D) Madenin işlenmeye başlanması

7) Aşağıdakilerden hangisi eskiden olan mesleklerin şuan devam etmemesinin nedenlerinden biri değildir?

- A) Sanayini gelişmesi
- B) İnsanların hayal gücünün azalması
- C) İnsanların yeni meslekler bulması
- D) Eski mesleklerden yeni mesleklere göre daha az kazanç sağlanıyor olması

8) 1- İlk yazılı antlaşma

2- ilk anayasa

3- ilk madeni para

Aşağıdaki uygarlıklarla verilen özellikler eşleştirildiğinde hangisi dışarda kalır?

- A) Babil
- B) Hitit
- C) Lidya
- D) Sümer

9) Friglerin bulunduğu çengell iğneye denir. Kral ve soylular için adı verilen mezarlar inşa etmişlerdir. adı verilen halı ve kilimler dokumuşlardır.

Yukarıdaki boşluklara sırasıyla hangi kelimeler gelmelidir?

- A) tümülüs-fibula-tapates
- B) pankus-fibula-kibele
- C) fibula-tümülüs-tapates
- D) tapates-pankus-fibula

10)İnsanların büyük ve gelişmiş şehirlere göç etmesinin nedenlerinden biri değildir?

- A) Sanayileşmenin fazla olması
- B) Sağlık imkanlarının fazla olması
- C) İş imkanlarının fazla olması
- D) Deprem gibi doğal afet riskinin az olması

11)1- GÖL: Kara üzerinde bulunan çukurların zaman içinde suyla dolması sonucu oluşan yeryüzü şeklidir.

2- VADI: Yeryüzünün, çevresine göre yüksek olan ve oldukça geniş bir alana yayılan bölümleridir.

3- BOĞAZ: İki denizi birbirine bağlayan dar su geçitleridir.

Hangisi veya hangileri doğrudur?

- A) yalnız 1
- B) 1 ve 3
- C) 1,2 ve 3
- D) 2 ve 3

12)Erzurum - Kars yöresinde yaz yağışları etkili olduğu için gür çayır ve otlaklar yaygındır. **Bu durum yörede aşağıdakilerden hangisinin gelişmesine katkı sağlamıştır?**

- A) İpek böcekçiliği
- B) Kümes bakıcılığı
- C) Arıcılık
- D) Büyükbaş hayvancılık

13)Yöre ve halk oyunları eşleşmelerinden hangisi yanlıştır?

- A) Trakya – Karşılaşma
- B) Ege – Zeybek
- C) Karadeniz – Horon
- D) Akdeniz – Halay

14)Hangisi tarihi eser değildir?

- A) Van Kalesi
- B) Ulu Camii
- C) Safranbolu Evleri
- D) Galata Kulesi

15)Karasal İklim → 1
Akdeniz İklimi → 2
Karadeniz İklimi → 3

Aşağıdaki eşleştirmelerden hangisi doğrudur?

- A) Yazlar serin, kışlar ılık ve her mevsim yağışlıdır.3
- B) Yazlar sıcak ve kurak geçer.1
- C) En geniş yer kaplayan iklimdir. 2
- D) Daha çok kar yağışlı geçer.2

16)Aşağıdakilerden hangisi nüfusun dağılımını etkileyen beşeri faktörlerdendir?

- A) Tarım
- B) Toprak yapısı
- C) İklim
- D) Bitki örtüsü

17)Aşağıdakilerden hangisi erozyonu arttıran nedenlerden biri değildir?

- A) Aşırı ve şiddetli yağış
- B) Meralarda hayvanları aşırı otlatılması
- C) Toprağın eğim yönünün tersine sürülmesi
- D) Bitki örtüsünün bilinçsizce yok edilmesi

18)Aşağıdaki uygarlıklarda hangisi ilk kütüphaneyi kurmuştur?

- A) Frigler
- B) Hititler
- C) Sümerler
- D) Asurlar

19) Bir bölgede yoğun olarak bulunan meslek dallarına bakarak aşağıdakilerden hangisi kesinlikle söylenebilir?

- A) Bölgenin nüfusu
- B) Bölgede yapılan ekonomik faaliyetler
- C) Bölgenin coğrafi özellikleri
- D) Bölgede görülen iklim tipi

20)Aşağıdaki bilgilerden hangisine fiziki haritalardan ulaşamayız?

- A) Yer şekilleri
- B) Yükselti değerleri
- C) Nüfusun dağılışı
- D) Akarsu ve göller



- Bugün sınıf başkanlığı seçimi yapıldı. Ali, Emre, Derya eşit oy alınca üçü de sınıf başkan oldu.

- Öyle olur mu? Bir sınıfta üç başkan... Bir yerin yöneticisi bir tane olur, yoksa orada karışıklık çıkar.

1) Evreni incelediğimizde her şeyin bir düzen ve uyum içinde bulunduğu ve görülüyor ve karışıklık bulunmuyor. Bütün bunlar bize neyi gösterir?

- A) Allah'ın her şeyi yarattığını
- B) Allah'ın bir ve tek olduğunu
- C) Allah'ın insanları sorumlu tuttuğunu
- D) Allah'ın ilk önce evreni yarattığını

2) Allah'ın isimlerinden; Allah'ın dünyada yarattıklarına nimet vermesi onları koruyup sevmesi, ahirette ise yalnızca kendisine inanan müminlere merhamet etmesi ve korumasıdır.

Yukarıdaki boşluğa aşağıdakilerden hangisi gelir?

- A) Kadir
- B) Rahman
- C) Tevhit
- D) Rahim

3) Dekî: O Allah bir tek'tir.

- Allah hiçbir şeye muhtaç değildir.
- O, doğurmamış, doğrulmamıştır.
- O'nun eşi ve benzeri yoktur.

Yukarıda anlamı verilen sure aşağıdakilerden hangisidir?

- A) Fatıha suresi
- B) Kevser suresi
- C) Sübhaneke
- D) İhlâs suresi

4) Allah'ın hoşnutluğunu kazanmak amacıyla, tan yerinin ağarmasından, güneş batmasına kadar yeme, içme ve benzeri bedeni isteklerden uzak durmaktır.

Yukarıda tanımı verilen ibadet aşağıdakilerden hangisidir?

- A) Namaz
- B) Oruç
- C) Zekat
- D) Hac

- Dünya kendi eksenini etrafında belirli bir sürede döner ve bu süre hiç değişmez
- Güneşin dünyamıza olan uzaklığının değişmesi bizi olumsuz yönde etkiler
- Gezegenler birbirlerine çarpmadan varlıklarını devam ettirirler

5) Yukarıda verilen bilgilerden hareketle aşağıdaki sonuçlardan hangisine ulaşamaz?

- A) Evrende bir düzen vardır
- B) Evrendeki düzeni sağlayan bir varlık vardır
- C) Evrende düzen olmasaydı yaşayamazdık
- D) Evrendeki bu düzen bir tesadüf eseridir

- 6) Hz. Ömer, bir gece bir evin önünde otururken , içerden sesler duyar. Bir anne kızından daha fazla para kazanmak için süte su katmasını istemektedir. Kızı annesine Hz. Ömer'in böyle bir davranışı yasakladığını söyler. Ancak annesi Hz. Ömer'in kendilerini görmeyeceğini, süte su katabileceklerini söylemelerine karşın kızı annesinin bu isteğini yine geri çevirir.

Yukarıda verilen olayda kız, Hz. Ömer'in görmeyeceğini bildiği halde yine de süte su katmamak isteyen annasını uyarmıştır. Bunun sebebi aşağıdakilerden hangisidir?

- A) Hz. Ömer'den korkması
B) Annesine karşı çıkmak için
C) Birisinin görmesinden korkması
D) Kimse görmese dahi Allah görür diye inanması

- I. Yolcu olmak
II. Geçici hastalığı bulunmak
III. Hamile olmak
IV. Kalıcı hastalığı bulunmak

- 7) Verilen ifadelerden hangisi kaza orucu için gereken durumlardan biri değildir?

- A) I
B) II
C) III
D) IV

- 8) Hayatı boyunca hiç oruç tutmayacak durumda olan , yaşlı ve kalıcı hastalığı olan Müslümanlar, tutamadıkları oruç içinverirler.

Verilen cümlede boş bırakılan yere aşağıdakilerden hangisi gelmelidir?

- A) Fitre
B) Fidyeye
C) Fıtır
D) Sadaka

- 9) Ali: "Sınavda başarılı olursam iki gün oruç tutacağım."

Ali'nin dileği gerçekleşirse aşağıdaki oruç türlerinden hangisini tutması gerekecektir?

- A) Adak
B) Kaza
C) Nafile
D) Muharrem

- 10)Gün boyunca oruç tutan Müslümanlar, güneş batıp akşam ezan okunduğunda oruçlarını açarlar. Orucu açmaya.....; orucun açıldığı vakte.....; yenilen yemeğe dedenir.

Verilen paragrafta boş bırakılan yerlere aşağıdakilerden hangileri gelmelidir?

- A) sahur-sahur vakti- sahur yemeği
B) imsak – imsak vakti- imsak yemeği
C) iftar- iftar vakti- iftar yemeği
D) imsak- iftar vakti- sahur yemeği

11) Cemil yılsonunda bursluluk sınavlarına girecekti. İyi kalpli ve dürüstü bir öğrenci olan Cemil, derslerinde gayretli bir öğrenci de değildi. Arkadaşları bıkmadan usanmadan ders çalışıp test çözerken Cemil de bol bol Facebook'ta resim ve video paylaşmış. Sınavdan bir gün öncesi akşamında da ellerini açarak şöyle dua etmiş. *"Allah'ım senin her şeye gücün yeter. Beni yarın gireceğim sınavda mahcup etme senin yardımın ve izninde bu sınavdan iyi bir puan almak istiyorum. Dualarımı kabul eyle yüce Rabbim."*

Yukarıda anlatılan olayda Cemil aşağıda verilen ayetlerden hangisine aykırı davrandığı söylenebilir?

- A) "Göklerin ve yerin içindeki her şeyin mülkiyeti Allah'ındır. O, her şeye hakkıyla kâdirdir."
- B) "O, öyle Allah'tır ki O'ndan başka tanrı yoktur. Görülmeveni ve görüleni bilendir."
- C) "Bilsin ki insan için kendi çalışmasından başka bir şey yoktur."
- D) "Eğer yerde ve gökte Allah'tan başka tanrılar bulunsaydı, yer ve gök kesinlikle bozulup gitmişti."

12) Müslüman'ın hayatta başarılı olması için önce gücünün yettiğince çalışması gerekir. Elinden gelen gayreti gösterdikten sonra Allah'a dua etmelidir.

Yukarıdaki bilgiye göre aşağıdakilerden hangisi doğru bir dua anlayışı değildir?

- A) Öğrencinin derslerine düzenli bir şekilde çalışarak dönem sonunda takdir almak için dua etmesi
- B) Bir şoförün trafik kurallarına uyararak, kaza yapmamak için dua etmesi
- C) İnsanın alkol, sigara gibi kötü alışkanlıklardan uzak durarak, sağlıklı olmak için dua etmesi
- D) Çalışmaya gücü yetmesine rağmen dilencilik yapan birinin, rızık için dua etmesi

13) Geceleri başımızı kaldırıp gökyüzünü incelediğimizde sayısız yıldız olduğunu görürüz. Bütün yıldızlar kendi yörüngeleri etrafında belirli bir ölçüye göre hareket ederler. Dönüş hareketlerinde bir dengesizlik olmadığı gibi hiçbir zaman birbirlerine de çarpmazlar.

Yukarıda verilen paragraf aşağıdaki tespitlerden hangisini kanıtlar niteliktedir?

- A) Gökyüzündeki bütün cisimler dünyamızdan önce yaratılmıştır.
- B) Evrende belirli bir düzen vardır.
- C) Bütün yıldızlar güneş etrafında hareket etmektedir.
- D) Bilimsel çalışmalar yeni yıldızların keşfedilmesine olanak tanır.

14) "Milletimiz Ramazan ayına ayrı bir önem verir. Ramazan'ın ilk gününden itibaren bambaşka duygular toplumu sarar. Bu aya özel televizyon programları yayınlanır. Mukabeleler okunarak, hatimler indirilir. Miraç Kandili bu ayda kutlanır."

Ramazan'a bu denli önem verilmesinin nedenlerinden biri aşağıdakilerden hangisidir?

- A) Mevlid Kandilinin bu ay içinde olması.
- B) Kur'an-ı Kerim'in bu ayda indirilmeye başlanmış olması.
- C) Peygamberimizin Medine'ye bu ay içinde hicret etmesi.
- D) Bu ayın sonunda Kurban Bayramının olması.

- I. Ramazanda oruç tutanların, tan yeri ağarmadan önce, belirli bir saatte kalkıp yedikleri yemek
II. Kur'an'ın baştan sona okunması
III. Orucun başlangıç vakti

15) Yukarıda tanımları yapılan kavramlar aşağıdaki seçeneklerin hangisinde doğru olarak verilmiştir?

- A) İmsak - Hatim - Sahur
B) Sahur - Mukabele - İmsak
C) İmsak - Hafız - Sahur
D) Sahur - Hatim - İmsak

"Peygamberimiz ilk ayetleri Hira Mağarasında aldığından beri her yıl Ramazan ayında o güne kadar gönderilmiş olan ayetleri Cebrail ile karşılıklı okur ve kontrol ederdi. Bu ibadet günümüzde özellikle Ramazan ayında camilerde veya evlerde Kur'an-ı Kerim'in bir kişi tarafından okunması, cemaatteki diğerleri tarafından takip edilmesi veya dinlenilmesi şeklinde devam etmektedir."

16) Metinde tanımı verilen ibadet aşağıdakilerden hangisidir?

- A) Hatim
B) Sure
C) Mukabele
D) Ezber

"Biriniz oruç tuttuğu zaman kötü söz söylemesin ve kavgaya etmesin. Şayet biri kendisine söver ya da çatarsa: "Ben oruçluyum" desin." (Buhari - Hadis)

17) Bu hadis-i şerif aşağıdaki hangi konuya dikkat çekmektedir?

- A) Oruç tutarken nelere dikkat edilmesi gerektiği
B) Orucun ne zaman tutulması gerektiği
C) Oruç ibadetinin faydaları
D) Orucun başlangıç ve bitiş zamanı

Rabbenâ êtinâ
haseneten ve fil êhireti haseneten
..... azâbennâr

18) Yukarıda Rabbenâ duasından bir bölüm verilmiştir. Boş kalan kısımlar aşağıdaki hangi seçenekte doğru olarak verilmiştir?

- A) veli valideye - fid dünyâ
B) rabbenâğ firîf - haseneten
C) fid dünyâ - ve kînâ
D) mü'minîne - haseneten

19) Allah'ın isimlerinden; Allah'ın dünya hayatında kendisine inanan veya inanmayan farketmeden herkese nimet vermesi ve onlara merhamet etmesidir.

Yukarıdaki boşluğa aşağıdakilerden hangisi gelir?

- A) Rahim
B) Rahman
C) Tevhit
D) Kudret

20) Hümeýra: Allah'ın (c.c.) güzel isimleriyle dua etmeliyiz.

Erdem: Temiz ve güzel olan şeylerden istemeliyiz.

Dilek: Sadece kendimiz için dua etmeliyiz.

İbrahim: Gönülden ve gizlice dua etmeliyiz.

Öğretmen sınıfa "Nasıl dua etmeliyiz?" sorusunu yöneltmiştir. Öğrencilerden hangisi bu soruya yanlış cevap vermiştir?

- A) Hümeýra
B) Erdem
C) Dilek
D) İbrahim

1) My father and I are in the We are cleaning it. There are a lot of horses, cows and goats here.

- A) animal shelter
- B) doghouse
- C) barn
- D) zoo

2) Hello! I am Tony. I am on the farm now. And it is 2 p.m.

Here is a to do list

Water the vegetables	At 10:00
Feeding the chickens	At 17:00
Milking the cows	At 14:00
Collecting eggs	At 09:00

What is Tony doing now ?



Hello ! I am Andy . My family and I live on a big farm. We have a lot of animals: cows, goats, horses, chickens, dogs and kittens. I love animals but my favorite is chicken. Now my father is watering the flowers. My mother is collecting the eggs. My sister, Sally is feeding the chickens and I am milking the cows. We love our farm. We are so happy here.

3) Which of the following questions doesn't have an answer?

- A) Where does Andy's family live ?
- B) What is Andy's father doing now ?
- C) What is Andy's favourite animal?
- D) How many cows are there on the farm?

4) Hello! I give milk to you. I like eating grass. I live in the barn. Which animal am I?

- A) Monkey
- B) Stork
- C) Cow
- D) Squirrel

5) David :

John : A racket and a tennis ball

Which question does David ask John ?

- A) What is your favourite fitness activity?
- B) What do you need to play tennis ?
- C) When do you go to your tennis course?
- D) Which sport do you like ?

6)

PLAY	GO	DO
Tennis	hiking	gymnastics
..... (1)(2)(3)

- A) Cycling /Basketball /Workout
- B) Riding a horse / Trekking / Soccer
- C) Chess / Swimming / Workout
- D) Baseball / Trekking / Volleyball

Answer the questions 7-8 according to the dialogue below.



(David) Hi !Do you have a plan this weekend ?
How about going camping on Sunday ?



(Lucy) Great idea!
Where can we go ?



(John) It is my favourite activity. But I can't come. Because I am busy on Sunday.



(Linda) I am afraid but I can't. I feel so tired must stay at home and have a rest.

7) Who accepts the invitation?

- A) Lucy
- B) David
- C) Linda
- D) John

8) According to conversation above, which one is FALSE ?

- A) David invites his friends to go camping.
- B) Lucy can't go camping because she must do her homework.
- C) Linda feels tired so she can't go camping.
- D) David wants to go camping.

9) Anna: Let's go rollerskating this Saturday.

Ted: That sounds exciting !

-
- A) I don't like rollerskating
 - B) I feel tired must stay at home.
 - C) It's my favourite activity.
 - D) I am very busy at weekend

10)



Hello ! I am turning 11 on Saturday. I have a birthday party. Please join my birthday.

(1)..... : 14th April
 (2)..... : 3 p.m.
 (3)..... : At home

- A) Decoration /Time / Place
- B) Place / Time / Date
- C) Time / Place / Activities
- D) Date / Time / Place

11) **A:**is Mary's birthday?

B: It's.....March.

- A) When / in
- B) Where / in
- C) When / on
- D) Where / a

12) **Sally:** Hello John. I have a birthday party tomorrow. Would you like to come to my birthday party?

John:

Sally: Great. See you tomorrow then.

- A) I am sorry but I can't
- B) I must do my homework
- C) I love parties. I want to come
- D) I am busy tomorrow



13) **David:** What's on TV tonight?

Linda: There is a

.....movie on.

- A) romantic
- B) western
- C) cartoon
- D) horror

Answer the questions 14-15-16 according to the dialogue below.

Kate: Let's see a movie tonight!

Carl: What type of movies do you like?

Kate: I enjoy watching adventure movies. I think they are exciting. How about you?

Carl: Himm, I like comedy movies because they are funny. My favorite one is "Dumb and Dumber."

Kate: Really! " Dumb and Dumber " is at the Diamond theatre tonight.

Carl: What time is the movie?

Kate: At five p.m.

Carl: Let's go.

14) **Kate and Carl are talking about.....**

- A) movies
- B) books
- C) television
- D) lessons

15) **Kate loves watchingmovies because they are.....**

- A) comedy/ funny
- B) adventure/ funny
- C) adventure/ exciting
- C) comedy / interesting

16) **When is the Dumb and Dumber?**

- A) today
- B) on Monday
- C) at five pm
- D) tonight



17) Which of the following suggestions DOES NOT match with one of the pictures?

- A) You should get a blanket
- B) You should brush your teeth.
- C) You shouldn't drink cold water.
- D) You shouldn't carry heavy things.

18) Student: I am very cold and I have a runny nose. I think I have.....

- A) the flu
- B) a backache
- C) the measles
- D) tissue

19) We can getfrom the pharmacy.

- A) candles
- B) blanket
- C) medicine
- D) sweets

20) Doctor: What's the with you?

Tom: I a backache

- A) matter/ has
- B) pain / have
- C) matter/ have
- D) ache/ see

CEVAP ANAHTARI

TÜRKÇE	MATEMATİK	FEN BİLİMLERİ	SOSYAL BİL.	DİN KÜLTÜRÜ	İNGİLİZCE
1. B	1. C	1. B	1. C	1. B	1. C
2. C	2. D	2. D	2. A	2. D	2. B
3. D	3. B	3. A	3. C	3. D	3. D
4. B	4. B	4. D	4. D	4. B	4. C
5. A	5. A	5. B	5. A	5. D	5. B
6. C	6. A	6. C	6. B	6. D	6. C
7. C	7. C	7. D	7. B	7. D	7. A
8. D	8. B	8. D	8. D	8. B	8. B
9. B	9. B	9. B	9. C	9. A	9. C
10. D	10.D	10.A	10.D	10.C	10.D
11. A	11.B	11.C	11.B	11.C	11.A
12. D	12.C	12.D	12.D	12.D	12.C
13. B	13.C	13.A	13.D	13.B	13.D
14. C	14.D	14.B	14.C	14.B	14.A
15. A	15.C	15.C	15.A	15.D	15.C
16. B	16.D	16.C	16.A	16.C	16.D
17. C	17.C	17.B	17.C	17.A	17.B
18. D	18.C	18.D	18.D	18.C	18.A
19. A	19.D	19.C	19.B	19.B	19.C
20. C	20.A	20.C	20.C	20.C	20.C

Çalışmada Emeği Geçen Öğretmenlerimiz

Ortaokul Koordinatörü Sancaklar Ortaokulu Müdürü
Bekir YEŞİL

Fatih Projesi İl Koordinatörü
Tarık IŞIKTAŞ

Bilişim Teknolojileri Öğretmeni
Okşan UZUNBOYLAR

Türkçe Öğretmeni
Ayşegül SIRMA

Türkçe Öğretmeni
Mustafa ÇIK

Türkçe Öğretmeni
Aydan KAHYALAR

Türkçe Öğretmeni
Kübra ÇELİK

Matematik Öğretmeni
Muhyettin SARSILMAZ

Matematik Öğretmeni
Hazal SARAÇOĞLU

Matematik Öğretmeni
Selma KARAKAŞ

Matematik Öğretmeni
Emre DEMİRCİ

Fen Bilimleri Öğretmeni
Abdullah ESMER

Sosyal Bilgiler Öğretmeni
Semra KAVUT ETİZ

İngilizce Öğretmeni
Damla İLGAR

İngilizce Öğretmeni
Merve GÜLTEKİN

Bu çalışma Siirt İl Milli Eğitim Müdürlüğü Öğretmenleri tarafından hazırlanmıştır.
Emeklerinden dolayı teşekkür ederiz.