

## I. DÖNEM II. YAZILI SINAVI

Aşağıdaki soruları cevaplayınız.

100  
puan

1.

Durgunca bir deniz sahilleri öper  
Söner ufuklarda sevdalı bir kemer  
Yıldız gibi uçar ateş böcekleri  
Gecenin gözyaşı öper çiçekleri

**Bu şiirde hangi söz sanatlarına yer verilmiştir? Nedenleriyle açıklayınız. (20 puan)**

.....  
.....  
.....  
.....  
.....  
.....  
.....  
.....

**2. Aşağıdaki cümlelerin hangisi kanıtlanabilirlik açısından diğerlerinden farklıdır? (5 puan)**

- A) Bu sene bilim şenliği açık havada, bir parkta yapılacaktı.  
B) Basketbol oynarken ayağını burkmuş.  
C) Sergideki resimlere kayıtsız kalmak mümkün değil.  
D) Kara haber tez duyulur, demiş atalarımız.

3.

Geçmişe mazi, yenmişe kuzu derler,  
Akıntıya kürek çekiyorsun.  
Bir açığı bulmak için,  
Saman altından su yürütüyorsun.  
Sen söyleyip sen dinliyorsun.  
Yangına körükle gidiyorsun,  
Benim o taraklarda bezim yok.  
Günahımı alıyorsun.

Cemal Şimşek

**Bu şiirdeki deyim ve atasözlerinin anlamlarını aşağıya yazınız. (30 puan)**

.....  
.....  
.....  
.....  
.....  
.....  
.....  
.....  
.....  
.....  
.....  
.....  
.....  
.....  
.....  
.....  
.....  
.....  
.....  
.....  
.....  
.....  
.....  
.....  
.....  
.....  
.....  
.....  
.....  
.....  
.....  
.....  
.....  
.....  
.....  
.....



4. Aşağıdaki cümlelerde yapılan yazım yanlışlarını düzeltiniz. (15 puan)

Kaymakam Ahmet bey, şikâyetleri dinlemek üzere makamında bekliyor.

.....  
.....

Zeliha Hala'mın dolmalarına bayılıyorum, dolmayı çok güzel yapıyor.

.....  
.....

Avrupa'da doğan kardeşi Müslüman'lığı öğrenmek için Mısır'a ve Türkiye'ye gitmiş.

.....  
.....

Asya'nın Doğu'sunda çay yetiştirme alanları fazladır.

.....  
.....

5. Aşağıdaki cümlelere hâkim olan duygu ya da kavramları cümlelerin karşısına yazınız. (Benzetme, hayalî unsurları bulunan cümle, abartı, pişmanlık, karşılaştırma, beğenme, yakınma, şaşkınlık vb.) (15 puan)

Bu dağ, Ağrı Dağı'ndan bile daha yüksektir.

.....

Bulutlar üzerinde gezen ayıcıklar aşağıya düşme korkusu yaşamışlar.

.....

Güzelim sahil kasabası iki yılda beton yığınınna döndü.

.....

Yağmurlu havada arabayı bu kadar hızlı kullanmamalıydım.

.....

Sen kim, futbolcu olmak kim!

.....

6. Okulunuzda gördüğünüz bir eksikliğin giderilmesine dair okul yönetimine dilekçe yazma kurallarına dikkat ederek bir dilekçe yazınız. (15 puan)

.....



## I. DÖNEM II. YAZILI SINAVI

A.

Aşağıdaki ifadelerden doğru olanların başına "D" yanlış olanların başına "Y" harfi yazınız.

10  
puan

|    |                          |  |
|----|--------------------------|--|
| 1. | <input type="checkbox"/> | Sosyal bilgiler dersi sayesinde vatanını milletini seven bireyler olarak yetiştiririz.                               |
| 2. | <input type="checkbox"/> | Bir olayın birden çok sonucu bulunmakta ve insanları farklı şekilde etkilemektedir.                                  |
| 3. | <input type="checkbox"/> | İnsanlar tek başlarına bütün ihtiyaçlarını giderebilirler.   |
| 4. | <input type="checkbox"/> | Sümerler zigguratların en üst katından gökyüzünü incelemiştirler.  |
| 5. | <input type="checkbox"/> | Ülkemiz tarihî çağlardan beri birçok uygarlığa ev sahipliği yapmış ve ülkemizde birçok tarihî eser oluşturmuşlardır. |
| 6. | <input type="checkbox"/> | Topkapı Sarayı önemli bir doğal güzelliğimizdir.   |
| 7. | <input type="checkbox"/> | Ramazan ve Kurban Bayramları millî bayramlarımız arasındadır.  |

B.

Aşağıdaki cümlelerde boş bırakılan yerleri uygun kelimelerle tamamlayınız.

10  
puan

|    |  |
|----|--|
| 1. | ..... Kanunları kısaca kısas şeklinde hazırlanmıştır.  |
| 2. | Hititlerle, Mısırlılar arasında Suriye toprakları için yapılan savaş sonunda ..... Antlaşması imzalanmıştır. |
| 3. | ..... zaman içinde kendiliğinden oluşan ve insan müdahalesi olmayan güzelliklerdir.                          |
| 4. | Haritadaki küçültme oranına ..... denir.   |
| 5. | Haritalar üzerindeki renkler ..... gösterir.   |

C.

Aşağıda verilen soruları kısaca açıklayınız.

20  
puan

1. Çocuk haklarına üç tane örnek yazınız.

.....

.....

.....

.....

.....

.....

2. Kültürümüze ait unsurlardan üç tanesine örnek yazınız.

.....

.....

.....

.....

.....

.....

3. Ülkemizde görülen iklimler ve bitki örtülerini yazınız.

.....

.....

.....

.....

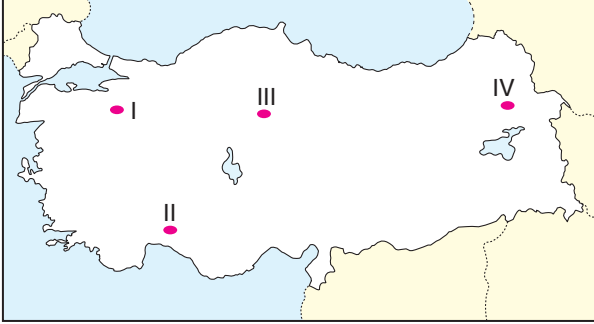
.....

.....



D. Aşağıdaki çoktan seçmeli sorularda doğru cevabı bulup işaretleyiniz. 60 puan





1. Ülkemizde çığ felaketleri kar yağışının yoğun olduğu, yükseltinin fazla olduğu yerlerde daha fazla görülür.



Buna göre haritada gösterilen yerlerden hangisinde çığ felaketlerine daha sık rastlanır?

- A) I. B) II. C) III. D) IV.

2. Ülkemizde meydana gelen doğal afetlerle ilgili aşağıdaki öğrencilerden hangisinin söylediği yanlıştır?

- A)  Can ve mal kaybı yaşanır.
- B)  Ülke ekonomisi gelişir.
- C)  Ülke içinde göçler yaşanır.
- D)  Toplumsal dayanışma artar.

3. Doğada kendi içinde bir denge ve yenilenme vardır. Bizler doğayı bazen kendi ihtiyaçlarımıza yönelik değiştirebiliriz.

Aşağıdakilerden hangisi doğada yapılan bu değişikliklere örnek gösterilemez?

- A) Ulaşım için köprü yapılması  
B) Akarsular üzerine barajlar yapılması  
C) Topraklar üzerinde ormanların oluşması  
D) Toprak üzerinde tarım yapılması

4. Aşağıdaki öğrencilerden hangisi iklimin insan yaşantısına etkisi ile ilgili bir örnek vermemiştir?

- A) **Melisa:** Karadeniz'de insanların sürekli şemsiye kullanması  
B) **Deniz:** Doğu Anadolu'da insanların kalın kıyafetler giymesi  
C) **Meryem:** Akdeniz sahillerinde turizmin gelişmiş olması  
D) **Murat:** Doğu Anadolu'da yer altı kaynaklarının çeşitli olması

5. Türkiye Fiziki Haritasını inceleyen bir öğrenci,

- I. Doğu Anadolu'da kahverengi rengin yoğun olduğu,  
II. Marmara Bölgesi'nin yeşil tonlarla gösterildiği,  
III. Güney bölgemizde nüfusun daha yoğun olduğu

durumlarından hangileriyle ilgili bilgi sahibi olabilir?

- A) I ve II. B) I ve III.  
C) II ve III. D) I, II ve III.

6. Anadolu'yu yazıyla tanıştıran uygarlık aşağıdakilerden hangisidir?

- A) Sümerler B) Asurlar  
C) Lidyalılar D) Urartular



## I. DÖNEM II. YAZILI SINAVI

Aşağıda verilen açık uçlu soruları cevaplayınız.

50  
puan

1. Oruç ne demektir? Açıklayınız.

.....

.....

.....

.....

.....

2. Ramazan ayını önemli yapan özellikleri nelerdir?

.....

.....

.....

.....

3. Teravih nedir? Açıklayınız.

.....

.....

.....

.....

4. Oruçlunun dikkat etmesi gereken hususlara iki örnek veriniz.

.....

.....

.....

.....

5. Rabbena dualarını yazınız.

.....

.....

.....

.....

Aşağıdaki cümlelerin doğru olanlarının başına "D", yanlış olanlarının başına "Y" yazınız.

10  
puan

|    |                          |  |
|----|--------------------------|--|
| 1. | <input type="checkbox"/> | Ramazan ayında sadece Kur'an okunur.                         |
| 2. | <input type="checkbox"/> | Yanlışlıkla yemek içmek orucu bozar.                         |
| 3. | <input type="checkbox"/> | Sigara içmek orucu bozar.                                    |
| 4. | <input type="checkbox"/> | Ramazan ayında verilen fıtır sadakasının diğer adı fitredir. |
| 5. | <input type="checkbox"/> | Oruç kişiye 18 yaşında farz olur.                            |

Aşağıda verilen soruları doğru kelimelerle eşleştiriniz.

15  
puan

FİTRE

İMSAK

MUKABELE

İFTAR

SAHUR

|    |  |
|----|--|
| 1. | Oruç yasaklarının başladığı vakittir .....   |
| 2. | Dinen zengin olan Müslümanların Ramazan ayında ihtiyaç sahiplerine verdikleri paraya denir. .... |
| 3. | Orucun açıldığı vakittir. ....   |
| 4. | Ramazan ayında Müslümanlardan birinin Kur'an okuyup diğerlerinin dinlemesine denir. ....         |
| 5. | Oruç tutacak kişinin gece kalkıp yediği yemeğe denir. ....                                       |



D. Aşağıdaki çoktan seçmeli soruları cevaplayınız.

25  
puan

1. I. Akıllı olmak  
II. Ergenlik çağına girmiş olmak  
III. Sağlıklı olmak  
IV. Müslüman olmak

Yukarıda verilenlerden hangileri orucun kişiye farz olmasının şartları arasında gösterilebilir?

- A) I ve II. B) II ve III.  
C) I, II ve III. D) I, II, III ve IV.

2. Peygamberimiz (s.a.v.) bir hadisinde, "Oruç (kötülüklerden koruyan) bir kalkandır. Oruçlu, saygısızlık yapmasın, kötü konuşmasın. Eğer biri kendisiyle dövüşmeye veya ona kötü söz söylemeye kalkışırsa iki defa, 'Ben oruçluyum.' desin..." buyurmuştur.

Aşağıdakilerden hangisi bu metinden çıkarılabilecek mesajlardan biri olamaz?

- A) Oruç, sabırlı olmayı gerektirir.  
B) Oruç, haksızlıklara razı olmak demektir.  
C) Oruç tutmak insanı ahlaki yönden geliştirir.  
D) Oruçlu insan davranışlarına dikkat etmelidir.

3. Ramazan ayında etrafımıza baktığımızda pek çok şeyin farklılaştığını görürüz. Örneğin, camii minareleri arasında ışıklı yazılar yazılır.

Verilen metinde altı çizili bölümde bahsedilen Ramazan geleneği aşağıdakilerden hangisidir?

- A) Mukabele B) Fitre  
C) Mahya D) İftar

4. Ramazan ayında evlerde iftar davetleri verilir. İftar geleneklerinden biri de eve gelen misafirlere bir hediye vermektir.

Verilen metinde vurgulanan Ramazan geleneği aşağıdakilerden hangisidir?

- A) Tekne orucu B) Diş kirası  
C) Mahya D) Fıtır sadakası

5. Hz. Muhammed (s.a.v.) Ramazan ayı dışında da bazı zamanlarda oruç tutardı. Şevval ayında altı gün tuttuğu bir oruç çeşidi vardır.

Verilen metinde bahsedilen Şevval orucu hangi oruçlara örnek gösterilebilir?

- A) Sünnet oruç B) Farz oruç  
C) Vacip oruç D) Müstehab oruç



I. DÖNEM II. YAZILI SINAVI

A. Read the text and answer the questions.

20  
points

I get up at half past six every day. I wash my face and I brush my teeth. I have breakfast with my family. I go to school at eight o'clock. I go to school by bus. I have lunch at school. I eat sandwich at lunch. I study lessons at school. I do my homework at 6 o'clock. I have dinner with my family at half past seven. I read a book and I go to bed at 9:30.

1. A : What time does he get up?  
B : .....

2. A : Does he brush his teeth?  
B : .....

3. A : Does he have lunch at home?  
B : .....

4. A : What time does he have dinner?  
B : .....

5. A : Does he read a book?  
B : .....

B. Match the words and the pictures.

30  
points

- a. origami                      b. hide and seek  
c. hopscotch                  d. checkers



C. Answer the questions about yourself.

10  
points

1. Can you play chess?  
.....
2. Do you play computers games?  
.....
3. What are your hobbies?  
.....
4. What's your favourite game?  
.....
5. What time do you go to school?  
.....



D. Look at the chart and fill in the blanks.

15  
points

|                  | Tim | Lisa | Burak | Mehmet |
|------------------|-----|------|-------|--------|
| blind man's buff | 😊   |      |       | 😊      |
| dodge ball       |     | 😊    | 😊     |        |
| hangman          | 😊   | 😊    |       | 😊      |
| hopscotch        |     | 😊    | 😞     | 😞      |
| chess            |     | 😞    | 😞     |        |
| checkers         | 😞   |      |       | 😊      |

- ..... doesn't like checkers.
- ..... likes hopscotch.
- ..... and ..... like dodgeball.
- Mehmet doesn't like .....
- Tim likes .....

E. Look at the pictures and fill in the blanks

15  
points

1. I ..... in the mornings.



2. My brother goes to school at .....



3. I like playing .....



4. Do you like .....



5. I ..... in the evenings.



F. Choose the correct option.

10  
points

1. **Jack** : - - - - ?

**Rosa** : In the evenings.

- Do you like listening to music
- How is it going
- Can you play dodge ball
- When do you watch TV

2. **My favourite game is** - - - - .

- hide and seek
- checkers
- hangman
- skipping rope



3. **It is** - - - - .

- twelve o'clock
- half past eleven
- half past twelve
- quarter to twelve



4. **She** - - - - in the mornings.

- brushes her teeth
- wears her uniform
- combs her hair
- gets up at seven o'clock







I. DÖNEM II. YAZILI SINAVI

A. Aşağıdaki eşleştirmelerden doğru olanların başına "D", yanlış olanların başına ise "Y" yazınız. 5 puan

|    |                          |                |               |                |
|----|--------------------------|----------------|---------------|----------------|
| 1. | <input type="checkbox"/> | $1\frac{1}{3}$ | $\rightarrow$ | $\frac{4}{3}$  |
| 2. | <input type="checkbox"/> | $\frac{7}{3}$  | $\rightarrow$ | $2\frac{1}{3}$ |
| 3. | <input type="checkbox"/> | $2\frac{1}{4}$ | $\rightarrow$ | $\frac{7}{4}$  |
| 4. | <input type="checkbox"/> | $\frac{11}{3}$ | $\rightarrow$ | $2\frac{2}{3}$ |
| 5. | <input type="checkbox"/> | $1\frac{3}{5}$ | $\rightarrow$ | $\frac{9}{5}$  |

D. Aşağıda verilen ondalık gösterimlerin okunuşlarını yazınız. 10 puan

- 3,2 = .....
- 16,05 = .....
- 7,098 = .....
- 0,159 = .....

E. Bir kumaş  $\frac{1}{5}$ 'i pamuk, %35'i ipek, geri kalanı da keten olacak şekilde karıştırılarak elde edilmiştir. Kumaş karışımında kullanılanları azdan çoğa doğru sıralayınız. 5 puan

F. Cebinde 60 ₺'si bulunan Sabri bunun 9 ₺'sini harcarsa parasının yüzde kaçını kalır? 5 puan

G. Aşağıda verilen ondalık gösterimlerle ilgili ifadelerden doğru olanların başına "D" yanlış olanların başına ise "Y" yazınız. 5 puan

|    |                          |         |   |
|----|--------------------------|---------|---|
| 1. | <input type="checkbox"/> | 53,368  | sayısının yüzde birler basamağındaki rakam 5'tir.                             |
| 2. | <input type="checkbox"/> | 63,57   | sayısının onda birler basamağındaki rakamın basamak değeri 0,5'tir.           |
| 3. | <input type="checkbox"/> | 124,068 | sayısında 8'in bulunduğu basamak yüzde birler basamağıdır.                    |
| 4. | <input type="checkbox"/> | 0,48    | sayısının tam kısmı 0'dır.  |
| 5. | <input type="checkbox"/> | 6,006   | sayısının birler basamağı ile binde birler basamağında bulunan rakam aynıdır. |

B. Aşağıdaki kesirleri küçükten büyüğe doğru sıralayınız. 10 puan

1.  $\frac{2}{3}, \frac{11}{12}, \frac{5}{6} \rightarrow \frac{\square}{\square} < \frac{\square}{\square} < \frac{\square}{\square}$

2.  $\frac{2}{3}, \frac{3}{5}, \frac{7}{15} \rightarrow \frac{\square}{\square} < \frac{\square}{\square} < \frac{\square}{\square}$

C. Aşağıda verilen işlemleri yapınız. 20 puan

1.  $\frac{17}{20} + \frac{2}{5} = \dots\dots\dots$

2.  $2\frac{2}{15} + 1\frac{7}{15} = \dots\dots\dots$

3.  $4 - \frac{11}{10} = \dots\dots\dots$

4.  $\frac{8}{25} - \frac{1}{5} = \dots\dots\dots$



A) Aşağıdaki soruları cevaplayınız.

40  
puan

1. Bir yazar, kitabının birinci ay  $\frac{1}{6}$  ini, ikinci ay  $\frac{7}{12}$  sini yazmıştır.

**Yazar kitabını üç ayda tamamladığına göre üçüncü ay kitabın kaçta kaçını yazmıştır?**

- A)  $\frac{3}{4}$  B)  $\frac{1}{2}$  C)  $\frac{5}{12}$  D)  $\frac{1}{4}$

2. Aşağıdaki sayı doğrusunda ardışık iki doğal sayının arası 10 eş parçaya ayrılmıştır.



**Buna göre K, L, M ve N noktalarına karşılık gelen ondalık gösterimler aşağıdakilerden hangisidir?**

|    | K   | L   | M   | N   |
|----|-----|-----|-----|-----|
| A) | 0,3 | 1,7 | 2,2 | 3,9 |
| B) | 0,3 | 1,7 | 3,2 | 3,9 |
| C) | 1,3 | 2,7 | 3,2 | 4,9 |
| D) | 0,3 | 1,7 | 2,2 | 4,9 |

3. Aşağıda ondalık gösterimler ile yüzde ifadeleri eşleştirilmiştir.

**Hangi eşleştirme yanlıştır?**

- A)  $0,06 = \frac{6}{100} \rightarrow \%6$   
 B)  $0,84 = \frac{84}{100} \rightarrow \%8,4$   
 C)  $0,18 = \frac{18}{100} \rightarrow \%18$   
 D)  $0,08 = \frac{8}{100} \rightarrow \%8$

4.  $\blacksquare + \frac{3}{5} = \frac{7}{5}$   $\frac{5}{10} - \blacktriangle = \frac{3}{10}$

**Yukarıdaki işlemlere göre  $\blacksquare + \blacktriangle$  ifadesinin değeri kaçtır?**

- A) 1 B)  $\frac{1}{2}$  C)  $\frac{2}{5}$  D)  $\frac{3}{10}$

5. Bir sepetteki meyvenin  $\frac{3}{7}$  ü portakal, geri kalanları elmadır.

**Portakalların sayısı 12 ise elmaların sayısı kaçtır?**

- A) 14 B) 16 C) 21 D) 28

6. Beyza 120 sayfalık defterin  $\frac{4}{5}$  ünü kullanmıştır.

**Beyza kaç sayfa kullanmıştır?**

- A) 90 B) 96 C) 100 D) 105

7.  $1,368 > 1, \square 6$

**Yukarıda  $\square$  yerine kaç farklı rakam yazılabilir?**

- A) 3 B) 4 C) 5 D) 6

8. Harun eşi için yaptırdığı bir buket çiçeğe 75 ₺ 50 kuruş, aldığı bir kutu çikolataya 48 ₺ 75 kuruş ödeyecektir.

**Harun tüm bunlar için dükkan sahibine 200 ₺ verirse kaç ₺ para üstü alır?**

- A) 125,25 B) 124,25  
 C) 75,75 D) 74,75

I. DÖNEM II. YAZILI SINAVI



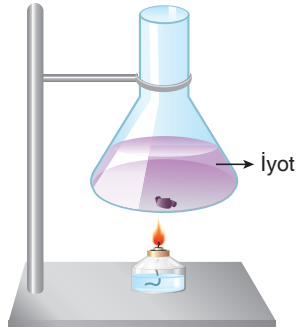
A. Aşağıdaki ifadelerden doğru olanların başına "D", yanlış olanların başına "Y" harfi koyunuz. 10 puan

|     |                          |   |
|-----|--------------------------|---|
| 1.  | <input type="checkbox"/> | Ayın kendi eksenini etrafındaki hareketi saat yönünün tersi yönündedir. |
| 2.  | <input type="checkbox"/> | Mikroskopik canlıların şekli ve büyüklüğü aynıdır.                      |
| 3.  | <input type="checkbox"/> | Mantarlar kendi besinini üretebilen canlılardır.                        |
| 4.  | <input type="checkbox"/> | Midye omurgasız hayvanlar sınıfında yer alır.                           |
| 5.  | <input type="checkbox"/> | Yapraklar gaz alış verişini yaparlar.                                   |
| 6.  | <input type="checkbox"/> | Pürüzlü yüzeylerde sürtünme kuvveti daha azdır.                         |
| 7.  | <input type="checkbox"/> | Dinamometreye kuvvet ölçer de denir.                                    |
| 8.  | <input type="checkbox"/> | Kaynama sırasında saf sıvının sıcaklığı artar.                          |
| 9.  | <input type="checkbox"/> | Katı maddelerin ısı alarak gaz hâle geçmesine kırılaşma adı verilir.    |
| 10. | <input type="checkbox"/> | Buharlaşma her sıcaklıkta gerçekleşir.                                  |

B. Aşağıdaki deney düzeneği ile ilgili soruyu cevaplayınız. 10 puan

Şekildeki deney düzeneğinde katı hâldeki iyot ısıtıldığında sıvı hâle geçmeden buhar çıktığı gözlemleniyor.

Bu olay hangi hâl değişimine örnektir? Açıklayınız.



.....  
.....

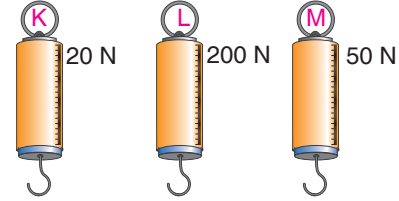
C. Aşağıdaki soruları cevaplayınız. 10 puan

İrem özdeş kâğıtlardan birini buruşturarak diğerini ise buruşturmadan aynı yükseklikten yere bırakıyor. Kâğıtlardan hangisi yere daha sonra düşer? Nedenini açıklayınız.

.....  
.....  
.....

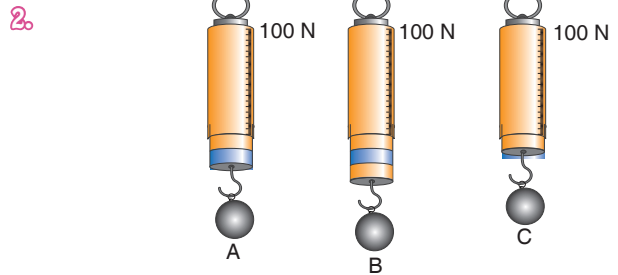
D. Dinamometrelerle ilgili aşağıdaki soruları cevaplayınız. 10 puan

Dinamometrelerin ölçebilecekleri en büyük değerler üzerlerinde yazılmıştır.



1. Buna göre dinamometrelerdeki yayların kalınlıklarının sıralaması nasıl olur? (Kalından inceye doğru sıralayınız.)

.....



Dinamometrelerin hepsi en fazla 100 N'luk kuvveti ölçebilmektedir ve 10 eşit bölmeye ayrılmıştır.

Dinamometrelerin uçlarına asılan cisimlerin ağırlıklarını büyükten küçüğe doğru sıralayınız.

.....



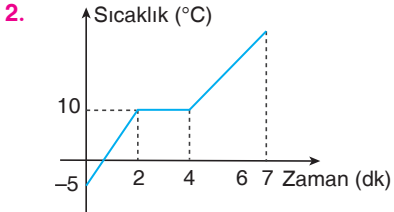
E. Aşağıdaki çoktan seçmeli sorularda doğru cevabı bulup işaretleyiniz. 60 puan

1. Şekilde bir bitkiye ait kısımlar numaralandırılarak verilmiştir.

- Solunum, terleme, gaz alışverişi gibi olayları gerçekleştirir.
- Bitkinin dik durmasını sağlar.
- Su ve mineral maddelerin topraktan alınmasını sağlar.

Yukarıda verilen bilgiler bitkinin kısımları ile eşleştirildiğinde kaç numaralı kısım açıkta kalır?

- A) 1 B) 2 C) 3 D) 4



Saf bir katının ısıtılmasına ilişkin sıcaklık – zaman grafiği yukarıdaki gibidir.

Grafiğe göre,

1. Madde 7. dakikada sıvı hâledir.
2. Maddenin donma sıcaklığı 10°C'tur.
3. Madde iki kez hâl değiştirmiştir.

İfadelerinden hangileri doğrudur?

- A) Yalnız 2. B) Yalnız 3.  
C) 1 ve 3. D) 1 ve 2.

3. 1. Erime  
2. Kırışılma  
3. Süblimleşme  
4. Buharlaşma

Verilen hâl değişimlerinden hangileri ısı vererek gerçekleşir?

- A) Yalnız 2. B) 2 ve 3.  
C) 1, 2 ve 4. D) 1, 3 ve 4.

4. Kuvvet ölçülebilen bir büyüklüktür. Kuvvet cisimlerin şeklini değiştirebilir.

Kuvvet dinamometre ile ölçülür. Kuvvet birimi kilogramdır.

Şekildeki balık kılıçığında kuvvetle ilgili bazı bilgiler verilmiştir.–

Verilen bilgilerden hangisi yanlıştır?

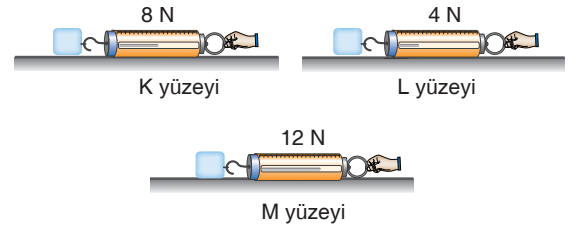
- A) 1 B) 2 C) 3 D) 4



Şekildeki canlıların ortak özelliği aşağıdakilerden hangisidir?

- A) Yavru bakımı görülmesi  
B) Sürüngenler sınıfında yer almaları  
C) Yumurta ile çoğalmaları  
D) Vücutlarının tüylerle kaplı olması

6. Şekilde özdeş kutuların ucuna dinamometre bağlanarak, kutular farklı yüzeylerde aynı süratle hareket ettirilmiştir.



Buna göre yüzeylerin sürtünme kuvvetleri arasındaki ilişki aşağıdakilerden hangisidir?

- A)  $L > M > K$  B)  $M > K > L$   
C)  $K > L > M$  D)  $L > K > M$



## I. DÖNEM II. YAZILI SINAVI

## TÜRKÇE

1. Öğrencinin verdiği cevap incelenir. 2. C
3. **Geçmişe mazi, yenmişe kuzu derler** → Geçmiş geçmişte kalmıştır, geçmişteki olayları düşünmek boştur, bugün ve yarını düşünmek gerekir.
- Akıntıya kürek çekiyorsun** → Olmayacak bir işi yapmaya uğraşmak
- Açığını bulmak** → Bir işteki eksikliği, hatayı veya zararı ortaya çıkarmak, birinin birisi hakkında kasıtlı bir hata araması
- Saman altından su yürütmek** → Kimseye belli etmeden gizli işler çevirmek
- Yangına körükle gidiyorsun** → Bir anlaşmazlıkta her iki tarafı da kışkırtıcı bir yol izlemek, gerginliği, uzlaşmazlığı artıracak biçimde davranmak
- O tarakta bezim yok** → Bir şeyle ilgisi, ilişkisi olmamak, ilgilenmemek
- Günahımı alıyorsun** → Bir kişi hakkında haksız yere kötü düşünmek, kuşkulananmak, iftira etmek
4. Bey / halamın / Müslümanlığı, Mısır'a, Türkiye'ye / doğusunda
5. Karşılaştırma Hayalî Cümle Yakınma  
Pişmanlık Küçümseme
6. Öğrencinin verdiği cevap incelenir.

## SOSYAL BİLGİLER

A.

1. D 2. D 3. Y 4. D 5. D  
6. Y 7. Y

B.

1. Hammurabı 2. Kadeş 3. Doğal varlıklar  
4. ölçek 5. yükselti basamaklarının

C.

1. Yasama hakkı  
Eğitim hakkı  
Sağlık hakkı
3. Türküler  
Yemekler  
El sanatları
5. Karadeniz iklimi - Orman  
Akdeniz iklimi - Maki  
Karasal iklim - Bozkır

D.

1. D 2. B 3. C 4. D 5. A  
6. B

## DİN KÜLTÜRÜ VE AHLAK BİLGİSİ

A.

1. Oruç: imsaktan (tan yerinin ağarmasından) güneş batıncaya kadar kişinin yemeden ve içmeden durmasıdır.
2. Farz olan oruç bu ayda tutulur.  
Kur'an-ı Kerim bu ayda indirilmiştir.
3. Ramazan ayında yatsı namazı ile vitir namazı arasında kılınan yirmi rekatlık sünnet bir namazdır.
4. Bilerek bir şey yemek ve içmekten kaçınmalıdır.  
İbadet bilinciyle hareket etmeli, kötü söz ve davranışlardan kaçınmalıdır.
5. Rabbenâ âtina fid'dunyâ haseneten ve fil'âhirati haseneten ve kınâ azâbennâr.  
Rabbenağfirlî ve li vâlideyye ve lil müminîne yevme yekûmül hisâb.

B.

1. Y 2. Y 3. D 4. D 5. Y

C.

1. İMSAK 2. FİTRE 3. İFTAR 4. MUKABELE 5. SAHUR

D.

1. D 2. B 3. C 4. B 5. D



**İNGİLİZCE**

**A.**

1. He gets up at half past six.
2. Yes, he brushes his teeth.
3. No, he doesn't.
4. He has dinner at half past seven.
5. Yes, he does.

**B.**

1. b                      2. c                      3. a                      4. d

**C.**

1. Student's own answers.
2. Student's own answers.
3. Student's own answers.
4. Student's own answers.
5. Student's own answers

**D.**

1. Tim                      2. Lisa                      3. Lisa - Burak  
4. hopscotch              5. hangman

**E.**

1. brush my teeth      2. half past eight      3. hopscotch
4. computer games    5. rad a book

**f.**

1. D    2. A    3. D    4. C

**MATEMATİK**

- A.** 1. D    2. D    3. Y    4. Y    5. Y

**B.** 1.  $\frac{2}{3} < \frac{5}{6} < \frac{11}{12}$                       2.  $\frac{7}{15} < \frac{3}{5} < \frac{2}{3}$

**C.** 1.  $\frac{5}{4}$                       2.  $3\frac{9}{15}$                       3.  $\frac{29}{10}$                       4.  $\frac{3}{25}$

- D.** 1. üç tam onda iki  
2. on altı tam yüzde beş  
3. yedi tam binde doksan sekiz  
4. sıfır tam binde yüz elli dokuz

- E.** pamuk, ipek, keten

- F.** %85

- G.** 1. Y    2. D    3. Y    4. D    5. D

- H.** 1. D    2. A    3. B    4. A    5. B    6. B    7. B    8. C

**FEN BİLİMLERİ**

**A.**

1. D                      2. Y                      3. Y                      4. D                      5. D  
6. Y                      7. D                      8. Y                      9. Y                      10. D

**B.**

Bu olay süblimleşmeye örnektir. Çünkü madde katı hâlden sıvı hâle geçmiştir.

**C.**

Buruşturulmayan kâğıt daha sonra yere düşer. Çünkü buruşturulmayan kâğıdın yüzeyi genişler ve hava sürtünmesi daha çok etki eder. Bu yüzden buruştırulan kâğıda göre yere daha geç düşer.

**D.**

1. L > M > K                      2. B > A > C

**E.**

1. A                      2. D                      3. A                      4. D                      5. C  
6. B