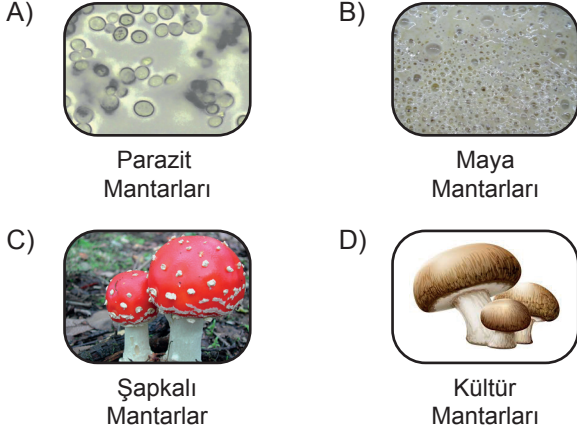
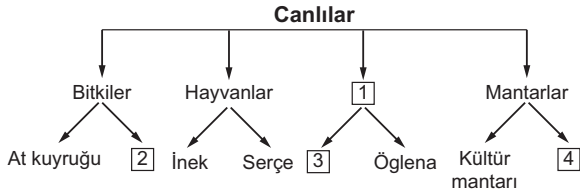


Canlıları Tanıyalım

1. Aşağıdaki mantar türlerinden hangisi insan, hayvan ve bitkilerin üzerinde yaşayarak bazı hastalıklara neden olur?



2. Aşağıdaki şemada canlılar sınıflandırılarak her gruba ikişer örnek verilmiştir.



Şemada boş bırakılan ve numaralandırılmış 1, 2, 3, 4 ile gösterilen yerlere hangi seçenekteki canlılar yazılmalıdır?

1	2	3	4
A) Mikroskopik canlılar	Su yosunu	Maya mantarları	Tırtıl
B) Omurgalılar	Mikroskopik canlılar	Amip	Şapkalı mantar
C) Mikroskopik canlılar	İspanak	Terliksi hayvan	Maya mantarı
D) Parazitler	Elma	Fare	Bakteri

3. • Doğurarak çoğalır.
• Omurgalı hayvandır.
• En büyük memeli olarak bilinir.

Verilen özellikler, aşağıdaki canlılardan hangisine aittir?

- A) Ahtapot
B) Deve kuşu
C) Fil
D) Mavi balina

4. Mikroskopik canlılar ile ilgili,

- I. Yalnızca canlı ortamlarda yaşayabilirler.
II. Hastalıkların oluşmasına neden olabilirler.
III. Bazı türleri sütün mayalanıp peynir ve yoğurda dönüşmesinde rol oynarlar.

ifadelerinden hangileri doğrudur?

- A) Yalnız I.
B) I ve II.
C) II ve III.
D) I, II ve III.

5. Aşağıdaki metin TÜBİTAK Bilim Genç sitesinden derlenmiştir.

MERCANLAR

Mercanları tanımayan biri, onları gördüğünde ya büyük bir kaya ya da bir su altı bitkisi zanneder. Ancak mercanlar, ne bir kaya ne de bir bitkidir. Mercanlar gerçekte birer hayvandır. Sarı, kırmızı, yeşil gibi parlak renkleri, avlarını kendilerine çekebilmelerini kolaylaştırır. Maalesef günümüzde bu güzel canlıların yaşamları tehlike altındadır.

Bu metinde bahsedilen mercanlarla ilgili,

- I. Günümüzde nesilleri tamamen tükenmiştir.
II. Hayvanlar sınıfında yer alırlar.
III. Parlak renkleri av bulmalarını kolaylaştırır.

ifadelerinden hangileri yanlıştır?

- A) Yalnız I.
B) Yalnız III.
C) I ve II.
D) II ve III.

6.




- Omurgasız bir hayvanım.
- Vücudumun dışında sert bir kabuğum var.
- Yumurta ile çoğalırım.

Yukarıda kendisi hakkında bilgi veren canlı türü, aşağıdakilerden hangisidir?

- A) Kurbağa
B) Kara salyangozu
C) Solucan
D) Timsah

Canlıları Tanıyalım

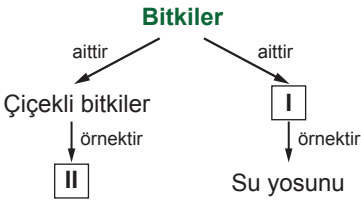
7.



Yukarıda verilen canlılar incelendiğinde hangi ortak özelliğe ulaşılabilir?

- A) Uçabilme
B) Doğurarak çoğalma
C) Besin üretme
D) Omurgaya sahip olma

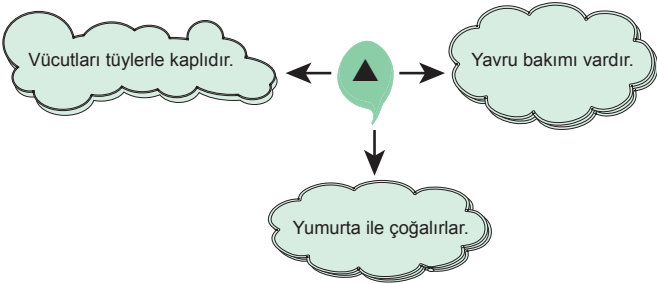
8.



Verilen şemada I ve II ile numaralandırılmış yerlere aşağıdakilerden hangisi yazılmalıdır?

- | I | II |
|----------------------|-------------|
| A) Çiçeksiz bitkiler | Elma |
| B) Çiçeksiz bitkiler | Eğrelti otu |
| C) Çiçekli bitkiler | Kara yosunu |
| D) Yapraklı bitkiler | Gül |

9.



Şekildeki ▲ ile gösterilen yere hangi omurgalı hayvan grubu yazılmalıdır?

- A) Kurbağalar
B) Balıklar
C) Sürüngenler
D) Kuşlar

10. Oda sıcaklığında açıkta bırakılan yiyeceklerin çok kısa sürede tat ve kokularının değişerek bozulduğu gözlenmiştir.

Bu duruma sebep olan canlılar, hangi canlı sınıfına ait olabilir?

- A) Bitkiler
B) Hayvanlar
C) Mikroskopik canlılar
D) Şapkalı mantarlar

11.

Özellikler Canlı	Besin üretebiliyor mu?	Doğurarak çoğalıyor mu?	Çiçeği var mı?
I	✓	×	×
II	×	✓	×

Verilen tabloya göre I ve II ile gösterilen canlılar hangileri olabilir?

- | | I | II |
|----|-------------|---------|
| A) | Atkuyruğu | Yarasa |
| B) | Leylak | Kurbağa |
| C) | Eğrelti otu | Baykuş |
| D) | Menekşe | Serçe |

12.

	İfadeler	D / Y
I	Şapkalı mantarların bazıları yiyecek olarak kullanılabilir.	
II	Mantarlar ılık ve karanlık ortamları sever.	
III	Mantarların hepsi gözle görülebilir.	
IV	Maya mantarları çoğalırken gaz kabarcıkları çıkarır.	

Yukarıda verilen ifadelerin yanındaki kutucuklara doğru ise "D" yanlış ise "Y" olduğu belirtildiğinde yukarıdan aşağıya hangi sıralama elde edilir?

- A)

D
Y
Y
D

 B)

D
D
Y
D

 C)

D
Y
D
Y

 D)

D
Y
D
Y

