



SIIRT İL MİLLİ EĞİTİM MÜDÜRLÜĞÜ

2020

# ORTAOKUL

21 - 25 EYLÜL

# 6

ÖDEU TAKİP SİSTEMİ

☎ 0484 223 10 28

✉ arge56@meb.gov.tr

🌐 siirt.meb.gov.tr

🐦 @mem\_siirt

📷 @siirtmem

**Sözcükte anlam:** Bir sözcüğün söylendiği andan itibaren akla gelen ilk anlamına "Gerçek anlam" denir. Sözcüğün gerçek anlamından tamamen kopmadan benzerlik ve işlevsellik açısından kazandığı yeni anlama "Yan anlam" denir. Bir sözcüğün gerçek anlamından tamamen uzaklaşarak kazandığı yep yeni anlamına ise "Mecaz anlam" denir. Bilim, sanat, spor, edebiyat, resim, Müzik vb dallar için özel olarak kullanılan kelimeler ise " terim anlam" başlığına dahildir.

1) Aşağıdaki cümlelerin hangisindeki altı çizili kelime mecaz anlamıyla kullanılmamıştır?

- A) Onun, şiir konusunda derin bir bilgisi vardır.
- B) Sınıfa yeni gelen çocuğa sıcak davrandık.
- C) Öğretmenin sert sözleri hepimizi üzdü.
- D) Ünlü yönetmenin sözlerini dikkatle dinledi.

2) Aşağıdaki atasözlerinden hangisinde mecaz anlam yoktur?

- A) Arpa eken buğday biçemez.
- B) Bugünün işini yarına bırakma.
- C) Üzüm üzüme baka baka kararır.
- D) Mum dibine ışık vermez.

3)Aşağıdaki cümlelerin hangisinde "sakat" sözcüğü mecaz anlamda kullanılmıştır?

- Sakat fikirleri ile etrafındakileri de zehirliyordu.
- B) Üzerine düşen demir kapı yüzünden sakat kaldı.
  - C) Sakatlanan futbolcu oyundan çıkarıldı.
  - D) Sakat kalsa da mücadelesine devam etti.

4) Aşağıdaki cümlelerin hangisinde altı çizili sözcük gerçek anlamında kullanılmıştır?

- A) Annem evdeki en ağır sorumlulukları üzerine alıyor.
- B) Her zaman kara haber veren sen oluyorsun.
- C) Annem kardeşimi uyutmak için yatak odasına götürdü.
- D) Zaman zaman boş konuşmaktan kendini alamıyor.

5) Aşağıdaki cümlelerde altı çizili sözcüklerden hangisi yan anlamıyla kullanılmıştır?

- A) Raftaki kitapların yüzleri çok eskidi.
- B) Bütün gün seni aradım durdum.
- C)Bu arada işimizi hallettik.
- D)sen hiç merak etme biz onların arasını buluruz.

6) "Göz" sözcüğü aşağıdaki cümlelerden hangisinde yan anlamda kullanılmıştır?

- A) Salonun zayıf ışığında onunla göz göze geldik.
- B) Kitabını çalışma masasının gözüne koymuş.
- C) Doktor, göz hastalıkları uzmanıymış
- D) Mehtap, yine şıklığıyla göz kamaştırdı.

**Sözcükte yapı:** Türkçede yapı bakımından üç çeşit kelime vardır.

**Basit yapılı sözcük:** Hiçbir şekilde yapım eki almamış sözcüklere denir.

**Türemiş yapılı sözcük:** En az bir tane yapım Eki almış olan sözcüklere denir.

**Birleşik yapılı sözcük:** Birden fazla kelimenin yeni bir kavramı, nesneyi, durumu karşılamak için bir araya gelerek kaynaşması sonucu oluşan yeni sözcüğe denir.

7) Aşağıdaki altı çizili sözcüklerden hangisi türemiş yapıdadır?

- A) Bu eşyalar oldukça eskimiş.
- B) Yarın çiçekçiye uğramak gerek.
- C) Okulda okuduğu şiiri çok beğenildi.
- D) Programda farklı teknikler denediler.

8) Aşağıdaki cümlelerin hangisinde birleşik sözcük yoktur?

- A) Çarşaf misali denizi hayranlıkla izledik.
- B) Çalışma odasında iki tane çekyat vardı.
- C) Yukarı mahalledeki gecekonduda yangın çıkmış.
- D) Karadeniz en hırçın denizimizdir.

9) Çekim ekleri, eklendiği sözcüklere yeni anlamlar katmazlar sözcüğün cümlede farklı görevler almasını sağlarlar. Yapım ekleri ise sözcüğe yepyeni bir anlam kazandırır.

Buna göre aşağıdaki sözcüklerden hangisi hem yapım hem çekim eki almıştır?

- A) Ağaçlar yeryüzünün en eski canlılardır.
- B) Elbisesinin çizgileri çok güzeldi.
- C) Birçok hayvan türünün parmak izi yoktur.
- D) İki halının desenleri birbirinden farklıydı.

10) "Türkçede iki çeşit kök vardır. Eğer sözcüğümüzün kökü " - mek, - mak" master eki alıyorsa fiil kökü, almıyorsa isim köküdür."

Buna göre aşağıdaki kelimelerden hangisinin kökü isimdir?

- A) Şekerlik
- B) Sevgili
- C) Bilgin
- D) Yakıt

11) "Bir varlığın, kime neye ait olduğunu bildiren eklerle " iyelik Ekleri" diyoruz."

Buna göre aşağıdaki altı çizili sözcüklerden hangisi iyelik eki almamıştır?

- A) Sesi duyunca herkes balkona koştu.
- B) Eviniz hayırlı olsun.
- C) Biraz önce oradaydı saatin.
- D) Ödevini yapmak istersen bilgisayarım orada.

12) Hal ekleri eklendiği sözcüğe; işaret (-i hali), yönelme (-e hali), bulunma (-de hali) ve ayrılma (-de hali) anlamları kararlar. Örneğin: ev-i, ev-e, ev-de, ev-den

Buna göre aşağıdaki kelimelerden hangisinde hal eki kullanılmıştır.

- A) Ağaçlar
- B) Yolculuk
- C) Rüzgarın
- D) Sonsuzluğa

13) Türkçede okunduğunda bir cevap verme gereği oluşturan cümlelerin sonuna soru işareti getirilir.

Buna göre aşağıdaki cümlelerden hangisinin sonuna soru işareti getirilmesi uygundur?

- A) Yıllarca usanmadan bıkmadan çok çalıştı
- B) Dolabındaki kıyafetleri ne zaman düzelteceksin
- C) Küçük kızın yanakları al al olmuştu
- D) Yarın okula erken gidebilirim

14) Türkçede bitmiş bir cümlenin sonuna nokta (.) işareti getirilir.

Buna göre aşağıdaki cümlelerden hangisinin sonuna nokta (.) işareti getirilemez?

- A) İş yerinden en erken saat 5'te çıkabilirim
- B) Nereye gideceğimize bir türlü karar veremedim
- C) Gök sarı, toprak sarı, ağaçlar sarı
- D) Yarın akşama doğru yağmur yağacakmış

15) Eş sesli kelimeler yazılışları aynı fakat anlamları tamamen farklı olan kelimelerdir.

Buna göre aşağıdaki cümlelerden hangisinde eş sesli kelime kullanılmıştır?

- A) Bugün havuzda yüzmekten yoruldum.
- B) Genç adam yürüdükçe kendine geldi.
- C) Yaşlı kadın ısrarla sorusunu tekrar etti.
- D) Bugün kendimi çok iyi hissediyorum.

16) Anlam bakımından birbiriyle çelişen sözcüklere zıt anlamlı sözcükler denir. Bu kelimeler aynı cümle içerisinde anlatıma güç katmak için kullanılabilirler.

Buna göre aşağıdaki cümlelerden hangisinde zıt anlamlı kelimeler bir arada kullanılmamıştır?

- A) İki öğrenci de gece gündüz demeden çalışmışlardır.
- B) Ak düşmüş kara saçlarına.
- C) İleri geri konuşan insanlardan uzak durun.
- D) Yarın sabah erkenden uyanıp okula gideceğim.

17) Bir kelimenin olumsuz hali onun zıt anlamlısı olarak kabul edilmez. Örneğin: gülmek kelimesinin olumsuzu gülmemek iken zıt anlamlısı ağlamaktır.

Buna göre aşağıdaki seçeneklerin hangisinde kelimenin karşıt(zıt) anlamı değil olumsuzu verilmiştir?

- A) İnmek-çıkılmak
- B) Gitmek- gitmemek
- C) Almak- vermek
- D) Durmak- ilerlemek

18) Beş duyu organımızdan en az biriyle algılayabildiğimiz kavramlar somut kavramlardır. Örneğin: rüzgâr, koku, kalem, gürültü...

Beş duyu organımızla algılayamadığımız varlığını akıl yoluyla kabul ettiğimiz kavramlar ise soyut anlamlı kavramlardır. Örneğin: saygı, üzüntü, rüya, ruh...

Buna göre aşağıdaki seçeneklerin hangisinde soyut anlamlı bir kelime yoktur?

- A) Hayal
- B) Düşünce
- C) Hava
- D) Aşk

19) İnsan dışındaki varlıkların insanmışçasına konuşturulmasına "konuşturma" sanatı denir.

Buna göre aşağıdaki cümlelerden hangisinde bunu örnekleyen bir cümle vardır?

- A) Soğuktan titreyen serçe " Çok açım. " diyordu.
- B) Zeytin gözlü küçük çocuk çok cana yakındı.
- C) Kozasından çıkan kelebek neşe ve heyecanla kanat çırpıyordu.
- D) Dünya kadar işim var.

20) Farklı kelimelerle kurulan iki cümle arasında anlam bakımından eş anlamlılık söz konusu olabilir. Aynı anlama gelen cümlelere eş anlamlı cümleler denir.

Buna göre aşağıdaki cümlelerden hangisi "Gerçek çoğu zaman karartılır fakat hiçbir zaman sönmez. " cümlesiyle aynı anlama gelir?

- A) Doğru söz, yemin istemez.
- B) Gök gürelemeden yağmur yağmaz.
- C) Güneş balçıkla sıvanmaz.
- D) Kurt dumanlı havayı sever.

•18	•32
•60	•42

1) Egemen yukarıdaki panoya üzerinde sayılar yazan dört adet etiket yapıştırılmıştır.

Bu etiketler üzerinde yazan sayılar arasından, asal çarpan sayısının tüm pozitif çarpan sayısına oranı en büyük olan etiketi çıkarmak için hangi etiketi seçmelidir?


- A) 18      B) 42      C) 60      E) 32

2) Leyla, yeni taşındıkları evdeki odasına uzunluğu 140 cm.olan kitaplık yaptırmak istiyor.

Leyla, her birinin kalınlığı  $3x+1$  cm.olan en fazla 5 eş kitabı rafta hiç boş yer kalmayacak şekilde yerleştirebilmektedir.

Buna göre  $x$  değerinin cm. cinsinden değeri aşağıdakilerden hangisidir?

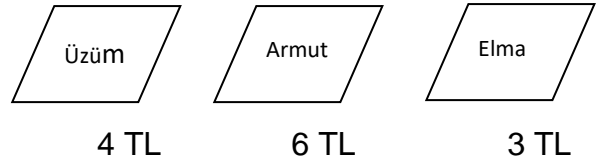
- A) 11      B)28      C) 16      D) 9



Yukarıdaki şekilde renkleri ve uzunlukları verilen iki farklı profil boru görülmektedir.

Kasım Usta, kırmızı renkli boruyu iki farklı yeinden, mavi boruyu ise üç farklı yerinden keserek kendi aralarında aynı renkli borular elde ediyor. Her iki renk borudan ayrı ayrı birer tanesini birleştirerek iki renkli borular elde eden Kasım ustanın birleştirdiği boruların herbirinin toplam uzunluğu kaç cm.'dir?

- A)  $6x+4$       B)  $3x+1$       C)  $5x+3$       D)  $18x+10$



4) Yukarıdaki kasalarda kg fiyatı altlarında yazılı olan meyveler görülmektedir.

Ahmet Bey 'in bu manavdan aldığı meyvelerin hassas terazide görülen miktarlar kg cinsinden aşağıda verildiği gibidir.

Üzüm: 3,192 kg

Armut: 4,25 kg


Elma : 3,421 kg

Ahmet Bey aldığı meyvelerin fiyatlarını, miktarlarını onda birler basamağına yuvarlayarak ödeme yapmaktadır.

Buna göre Ahmet Bey manava kaç lira ödemelidir?

- A) 48,8      B) 48,2      C) 45      D) 48,5

5) Bir halter yarışmasında yarışmaya katılan üç kişinin boy uzunlukları ve ağırlıkları aşağıdaki gibidir.



1

2

3

Kilo (kg)	69	72	63
Boy (cm)	167	160	165

Yarışmacıların, yarışmaya katılacakları ağırlık miktarı, boy ve kilolarının aritmetik ortalamaları alınarak belirlenecektir.

Buna göre yarışmacıların kaldıracakları ağırlık sıralaması aşağıdakilerden hangisi gibi olmalıdır?

- A)  $2 > 1 > 3$     B)  $1 > 2 > 3$     C)  $3 > 2 > 1$     D)  $3 > 1 > 2$

6) Mert annesinin telefonundan hesap makinesini açarak önce 5 tuşuna sonra x tuşuna basıyor ve bunu 3 kere tekrarlıyor.

Son olarak bir kere daha 5 tuşuna basıp = tuşuyla işlemin sonucunu ekranda görüyor.

Buna göre Mert'in ekranda gördüğü sonuç aşağıdakilerden hangisidir?

- A)125    B)75    C)625    D)225

7) Ayşe'nin alışveriş için gittiği mağazada gömlek fiyatı 55 TL, pantolon fiyatı 70 TL'dir.

Ayşe 2 pantolon ve 2 gömlek almıştır. Kasaya 300 TL veren Ayşe para üstü olarak ne kadar alır?

- A)55    B)75    C)60    D)50

8)Manav Hasan, kilogramını 2 TL'den aldığı kavunun kilogramını 4 TL'den; tanesini 1 TL'den aldığı limonların tanesini 2 TL'den satıyor.

Manav Hasan'ın sadece kavun ve limon satışından 270 TL kar ettiği bilindiğine göre sattığı kavun miktarının kilogramı ve sattığı limonların adeti aşağıdakilerden hangisi olabilir?

	KAVUN	LİMON
A)	80	40
B)	150	60
C)	100	70
D)	90	80

9) Öğretmeni Melek'ten her gün 30 sayfa kitap okumasını istemiştir.

Öğretmeni Melek'e aşağıdaki tabloyu vererek bir hafta boyunca okuduğu kitap sayısına göre düzenlemiştir. Öğretmenin kendisinden istediği günlük okuması gereken sayfa sayısından kaç tane fazla yaptığı + işaretiyle, kaç tane az yaptığı ise - işaretiyle tabloda gösterilmiştir.

PAZARTESİ	-5
SALI	+3
ÇARŞAMBA	-2
PERŞEMBE	0
CUMA	-8
CUMARTESİ	-11
PAZAR	+9

Buna göre Melek bir haftada toplam kaç sayfa kitap okumuştur?

- A)196 B)184 C)189 D)172

10) Kantinden tanesi 2 TL olan poğaçadan 3 tane, tanesi 4 TL olan tosttan 1 tane ve tanesi 1 TL'den olan ayrandan 3 tane alan Murat'ın ödeyeceği toplam ücreti gösteren ifade aşağıdakilerden hangisidir?

- A)  $(3 \times 1) + (3 \times 3) + 4$   
 B)  $3 \times (2 + 1) + 4$   
 C)  $1 \times (3 + 1) + 4$   
 D)  $(3 \times 1) + (1 \times 1) + 4$

11)  $2^5$  üslü ifadesinde kuvvet ve taban yer değiştirirse sonuç hakkında ne söylenebilir?

- A) Değişmez  
 B) 7 azalır  
 C) 7 artar  
 D) 14 artar

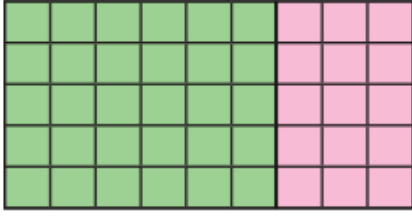
12)  $3^3$  ifadesi için aşağıdakilerden hangisi doğrudur?

- A)  $6^2$  den büyüktür.  
 B)  $2^3$  ile  $2^4$  arasındadır.  
 C)  $5^2$  den küçüktür.  
 D)  $4^2$  den büyüktür.

13)  $5 + 2 \cdot 3 - 4 \div 1$  işleminin sonucu kaçtır?

- A) 5  
 B) 6  
 C) 7  
 D) 8





14) Yukarıdaki birimkarelerin toplamının işlem olarak ifadesi aşağıdakilerden hangisidir?

- A)  $5 \cdot (6 + 3)$
- B)  $3 \cdot (5 + 6)$
- C)  $6 \cdot (3 + 5)$
- D)  $9 \cdot (5 + 3)$

15) EBA'yı kullanan öğrenciler sistem üzerinden puan toplamaktadır. Her dinlenen konu anlatımı 3 puan, her tamamlanan etkinlik 2 puan kazandırmaktadır. 180 puanı olan Ömer hedeflediği 200 puan için aşağıdaki seçeneklerden hangisini tamamlamalıdır?

- A) 3 konu anlatımı ve 4 etkinlik
- B) 4 konu anlatımı ve 3 etkinlik
- C) 5 konu anlatımı ve 2 etkinlik
- D) 6 konu anlatımı ve 1 etkinlik

16) Eşit büyüklükteki dört pastadan Ayşe  $\frac{1}{5}$  ini, Ahmet  $\frac{1}{8}$  ini, Fatma  $\frac{1}{8}$  ini Mehmet  $\frac{1}{6}$  ini, yemiştir. Hangisinin kalan pastası daha çoktur.

- A) Ayşe
- B) Ahmet
- C) Fatma
- D) Mehmet

17) Ali  $2^5$  işlemini  $2 \times 5$  olarak hesaplamıştır. Buna göre gerçek sonuç ile Ali'nin bulduğu sonuç arasında fark kaçtır?

- A) 22
- B) 16
- C) 12
- D) 2

18) Mehmet yarıçap uzunluğu 15 cm olan bir tekerleği uzunluğu 9 metre olan yolda yuvarlamıştır.

Buna göre tekerlek kaç turda yolun sonuna ulaşır? ( $\pi = 3$  alınız)

- A) 10      B) 15      C) 20      D) 60

19)  $2x-3y+4$  cebirsel ifadesi ile ilgili

1. Terim sayısı 2 dir
  2. Katsayılar 2, -3, 4 tür.
  3. Sabit terim 4 tür.
- İfadelerinden hangileri doğrudur?

- A) Yalnız 1  
B) 1 ve 2  
C) 2 ve 3  
D) 1,2 ve 3

20) Ömer amca 60 dönüm olan tarlasının  $\frac{1}{3}$  üne nohut,  $\frac{1}{5}$  ine buğday,  $\frac{3}{15}$  üne yulaf ekmiş ve geriye kalanını nadasa bırakmıştır.

Buna göre tarlanın nadasa bırakılan kısmı kaç dönümdür.

- A) 12      B) 13      C) 15      D) 16



## ÜNİTE 1: GÜNEŞ, DÜNYA VE AY 1.BÖLÜM: GÜNEŞ'İN YAPISI VE ÖZELLİKLERİ

### KAZANIM 1: Güneşin özelliklerini açıklar.

#### KONU ÖZETİ

Güneş evrendeki milyonlarca yıldızdan biridir. Güneş'in Dünya için önemi çok büyüktür. Dünya'da yaşayan tüm canlıların ısı ve ışık kaynağıdır. Dünya'mızın da içinde bulunduğu sistem ismini Güneş'ten alarak Güneş Sistemi olarak isimlendirilir.

Güneş'in şekli küredir. Şekli top gibi yuvarlaktır.

Güneş beyaz renkte ışık yaymaktadır.

Güneşimiz orta büyüklükte bir yıldızdır. İlk bakışta evrende bulunan en büyük yıldızın güneşimiz olduğu aklımıza gelebilir. Ancak gece ışığını gördüğümüz yıldızların birçoğu güneşimizden çok daha büyüktür. Güneşimiz bize yakın olmasından dolayı diğer yıldızlardan daha büyük görünmektedir.

Güneş diğer yıldızlar gibi kütesinin büyük bölümü sıcak gazlardan oluşur.

Güneşte %71 oranında en fazla hidrojen gazı bulunur. %27 oranında helyum %2 oranında diğer gazlar bulunur

Güneş tıpkı Dünyamız gibi katmanlardan oluşmuştur. Güneşin merkezinde bulunan kısım Güneş'in çekirdeğidir. Sıcaklığı 15 milyon derecedir.

Güneş'in üst kısmında çıplak göz ile gördüğümüz katman ise ışık küre olarak adlandırılır. Güneş'in yüzeyinin sıcaklığı yaklaşık olarak 6000 derecedir.

Işık küreyi saran katman ise renk küre adı verilir.

Güneş'i saran katmana ise taç küre adı verilir.

Güneş diğer yıldızlar gibi doğar, büyür ve enerjisi biterek ölecektir.

Güneş yüzeyinde kısmen soğuk olan kısımlar bulunur. Bu bölgelere Güneş Lekeleri denir.

Kendi yaptığı teleskopla Güneş'te oluşan lekeleri ilk gözlemleyen kişi Galileo Galilei'dir.

Galileo Galilei Güneş lekelerinin hareket ettiğini gözlemleyerek Güneş'in kendi eksenini etrafında döndüğünü bulmuştur.

1) Ay tutulması ile ilgili;

I. Dünya Güneş ve Ay'ın arasındadır.

II. Çıplak gözle görülebilir.

III. Tutulma olayı kısa bir süre görülebilir.

Yukarıdaki bilgilerden hangileri doğrudur?

A) Yalnız I B) I - II C) II - III D) I - II- III

2) Asteroitlerin parçalanması sonucu oluşan küçük parçaların bazıları, Dünya atmosferine girdiğinde sürtünmenin etkisiyle ısınır ve yanarak buharlaşır. Bu gök cisimlerine .....1..... denir. Yanmayla tükenmeyen bazı parçalar ise yeryüzüne kaya olarak düşer. Bunlara da .....2... adı verilir.

**Yukarıdaki paragrafta boş bırakılan I ve II numaralı yerlere hangi kavramlar yazılmalıdır?**

	1	2
A) uydu		gök taşı
B) meteor		krater
C) krater		uydu
D) meteor		gök taşı

3) Güneş ve Ay tutulmaları sırasında Ay hangi evrelerde bulunmaktadır?

Güneş tutulmasında	Ay tutulmasında
A) İlk dördün	Son dördün
B) Dolunay	Yeni Ay
C) Hilal	Dolunay
D) Yeni Ay	Dolunay



4) Aşağıdaki ifadelerden hangisi yanlıştır?

- A) Asteroit kuşağı Mars ve Jüpiter gezegenleri arasındadır.  
 B) Her ay Güneş veya Ay tutulmasından en az biri gerçekleşir.  
 C) Karasal gezegenlere iç gezegenlerde denir.  
 D) Güneş Sistemi'ndeki en büyük gezegen Jüpiter'dir.

5) Güneş sistemindeki en büyük gezegendir. Güneş'e yakınlıkta beşinci sırada yer alır. Bugüne kadar 67 doğal uydusu keşfedilmiştir.

Yukarıda anlatılan gezegen aşağıdakilerden hangisidir?

- A) Dünya B) Uranüs C) Jüpiter D) Venüs

6)

Dünya	İç gezegendir ve karasaldır.
Merkür	En küçük gezegendir.
Satürn	Güneşe en uzak gezegendir.
Venüs	Çoban yıldızı olarak bilinir

Yukarıda bazı gezegenlerin özellikleri yanına verilmiştir.

Hangi gezegenin özelliği yanlış verilmiştir.

- A) Dünya B) Merkür C) Satürn D) Venüs

7) Güneş sisteminde bulunan gezegenlerin isimleri numaralanarak aşağıdaki tabloda verilmiştir.

1) Mars	2) Jüpiter	3) Venüs	4) Merkür
5) Neptün	6) Uranüs	7) Dünya	8) Satürn

Yukarıda verilen gezegenlerin karasal ve gazsal olarak sınıflandırılması için hangileri yer değiştirmelidir?

- A) 1-8 B) 2-5 C) 3-6 D) 7-2

8) Güneş sisteminde yer alan dış gezegenlerin (gaz gezegenler) hepsinde halka vardır.

Bu bilgiye göre aşağıdaki gezegenlerin hangisinde halka bulunmaz?

- A) Jüpiter B) Merkür C) Satürn D) Neptün

9) Dünya ile yaklaşık aynı büyüklükte olduğundan Dünya'nın ikizi olarak bilinen gök cismi ile ilgili,

- I. Güneş sistemindeki diğer gezegenlerden farklı olarak doğudan batıya doğru dönmektedir.
- II. Güneş sisteminin en küçük gezegenidir.
- III. Uydusu ve halkası yoktur.

İfadelerinden hangileri doğrudur?

- A) Yalnız II B) I ve II  
 C) I ve III D) I, II ve III

10) Güneş sisteminde 8 tane gezegen bulunmaktadır. Bu gezegenler Güneş'e olan uzaklıklarına göre sıralandığında; Güneş'e en yakın gezegen .....I....., en uzak gezegen .....II.....'dür.

Yukarıdaki paragrafta boş bırakılan I ve II numaralı yerlere hangi gezegenler yazılmalıdır?

	I	II
A)	Dünya	Mars
B)	Merkür	Jüpiter
C)	Mars	Neptün
D)	Merkür	Neptün



11) Güneş tutulması ile ilgili aşağıda verilen ifadelerden hangisi doğrudur?

- A) Güneş tutulması gece vakti gerçekleşir.
- B) Güneş tutulması Ay'ın " Yeni Ay" evresinde gerçekleşir.
- C) Dünya konum olarak Güneş ile Ay'ın arasında bulunur.
- D) Güneş tutulmasını çıplak gözle izlemenin sakıncası yoktur.

12) Ay tutulması ile ilgili aşağıda verilen ifadelerden hangisi yanlıştır?

- A) Ay'ın "Dolunay" evresinde gerçekleşir.
- B) Ay tutulması sırasında Ay'ın gölgesi Dünya üzerine düşer.
- C) Ay'ın Dünya etrafındaki dolanma eksenini düzgün olmadığı için her Dolunay evresinde Ay tutulması gerçekleşmez.
- D) Ay tutulması gece gerçekleşir.

13) Gezegeneri büyükten-küçüğe doğru sıraladığımızda en büyük ve en küçük gezegenler hangileri olur?

- A) Mars-Dünya
- B) Jüpiter-Merkür
- C) Jüpiter-Mars
- D) Satürn-Merkür

14) Feride'nin Güneş sisteminde bulunan gezegenlerin Güneş'e uzaklığı ile ilgili yaptığı değerlendirmelerden hangisi yanlıştır?

- A) Güneş'e en yakın gezegen Merkür'dür.
- B) Dünya Jüpiter'e göre güneşe daha yakındır.
- C) En uzak gezegen Uranüs'tür.
- D) Mars güneşe yakınlık açısından 4.sıradadır.

15)

- I. Büyüklük bakımından 5.sıradadır.
  - II. Atmosferi vardır.
  - III. 2 tane uydusu vardır.
  - IV. Yaşamın olduğu bilinen tek gezegendir.
- Dünya ilgili hangisi doğrudur?

- A) I-II
- B) I-II-IV
- C) I-II-IV
- D) I-II-III-IV

16) I. Kendilerine ait yörüngeleri vardır.

II. Küresel yapıya sahiptirler.

III. Isı ve ışık yayarlar.

Gezegener ile ilgili hangi bilgi doğrudur?

- A) Yalnız I
- B) I-II
- C) I-III
- D) I-II-III



17) Veli gezegenler ile ilgili ders çalışmaktadır. Veli Jüpiter ile ilgili hangi bilgiyi **yanlış** söylemektedir?

- A) Güneşe yakınlık açısından 2.sıradadır.
- B) Dış gezegendir.
- C) Güneş sisteminin en büyük gezegenidir
- D) 60' tan fazla uydusu vardır.

18) Fatma rüyasında uzay yolculuğuna çıktığını görüyor, yolculuk sırasında durup dinlendiği gezegenin özelliklerini söylüyor. Fatma bu gezegenin 2 tane uydusunun olduğunu, bir iç gezegen olduğunu ve kızıl gezegen olarak bilindiğini söylüyor. Fatma yolculuk sırasında hangi gezegende dinlenmiştir?

- A) Merkür
- B) Satürn
- C) Mars
- D) Venüs

19) Aşağıda verilen özelliklerden hangisi iç gezegenlere ait değildir?

- A) Halkaları yoktur.
- B) Yörüngeleri birbirine yakındır.
- C) Gazsal gezegenlerdir.
- D) Sıcaklıkları yüksektir.

20) Aşağıdakilerden hangisi Dünya'nın ikiz kardeşi olarak bilinir?

- A) Merkür
- B) Venüs
- C) Mars
- D) Satürn



**Rol:** Bir iş grup ya da kurumda bir kimse ya da bir şeyin üstüne düşen göreve rol denir.

**Rollerimiz:**

1- Doğuştan kazanılan roller: Biyolojik özelliklerimizden kaynaklanan, herhangi bir ilgi ve yeteneği gerektirmeyen rollerimizdir. Bunları seçme imkânımız yoktur. Örnek: Evlat, kardeş gibi.

2- Sonradan kazanılan roller: İsteğimizle çalışarak, başarı göstererek sonradan sahip olduğumuz rollerdir. Örnek: Sınıf başkanı olmak, takım kaptanı olmak gibi. Rollerimiz gün içinde dahi değişir. Bir kişi okulda öğretmen, pazarda müşteri, evde karısına eş, çocuklarına baba rolünü üstlenir. Eve gelen misafire de ev sahibi rolündedir.

**BİLGİ NOTU:** Aile içinde bulunduğumuz ilk grup ve aynı zamanda ilk sosyal kurumdur ve diğer gruplara göre sürekli devam eden gruptur.

1) Teknolojinin hızla geliştiği günümüzde vatandaşlar yaşadıkları sorunları ilgili kurum ve kuruluşlara iletebilsinler diye ülkemizde bazı telefon hatları kurulmuştur. Bu sayede bireyler talep, istek, görüş, öneri, ihbar ve şikayetlerini dilekçe vermeden yetkili birimlere yasal yollardan iletebilmektedir.

**Aşağıdakilerden Hangisi bir sorunla karşılaştığımızda yasal yollardan başvuracağımız telefon hatlarından biri değildir?**

- A) Alo 174 Gıda Hattı
- B) Alo 155 Polis İmdat Hattı
- C) Alo 175 Tüketici Danışma Hattı
- D) Alo 112 Ambulans

2) Ülkemizin hemen her yerinde birçok sorunla karşı karşıya kalıyoruz. Yaşadığımız bu sorunlar karşısında başvurabileceğimiz kurumlar ortaya çıkmıştır.

**Aşağıdakilerden Hangisi ülkemizde bireylerin sorunlar karşısında başvuracağı kurumlar arasında yer almaz?**

- A) Tüketici İl/İlçe Hakem Heyeti
- B) Valilik
- C) Bankalar
- D) Belediye

3) Bireylerin içinde buldukları rollerle birlikte kendilerinden beklenen davranışlar da değişmektedir. Örnek olarak Ayşe öğretmenden evde annelik yapması beklenirken okulda öğrencilerine iyi bir eğitim ve öğretim vermesi ve trafikte sürücü olarak trafik kurallarına uyması beklenir. **Yukarıdaki bilgilere göre aşağıdakilerden hangisine ulaşamaz?**

- A) Bireyler günlük hayatta farklı rollerde bulunabilirler.
- B) Her rolün gerektirdiği farklı davranışlar bulunmaktadır.
- C) Önemli olan içinde bulunduğumuz role uygun davranışlarda bulunmak ve farklı rollerin davranışlarını birbirine karıştırmamaktır.
- D) İnsanların hayatta mutlu olabilmesi için sadece bir role sahip olması gerekir

4) Fatih Ortaokulu 6. sınıfında eğitim ve öğretim gören Ahmet'in evdeki sorumlulukları arasında aşağıdakilerden hangisi olamaz?

- A) Anne ve babasına yardımcı olmak.
- B) Herhangi bir işte çalışarak ailesine maddi katkıda bulunmak.
- C) Evdeki kurallara uymak.
- D) Odasını düzenli ve temiz tutmak.

5) Geçmişten günümüze bir kültür taşıyıcısı görevini de üstlenerek, kültürel değerleri oluşturan din, tarih, edebiyat, sanat, bilim-teknik, müzik vb. öğeleri yeni nesillere aktaran kültür ögesi aşağıdakilerden hangisidir?

- A) Dil
- B) Din
- C) Tarih
- D) Mimari

6) Bir kimse veya bir olayla ilgili yeterli bilgi edinmeden geliştirilen tutumların, önceden edinilmiş olumlu veya olumsuz yargı, peşin yargıya ne nedir?

- A) Önyargı
- B) Kalıp yargı
- C) Hoşgörü
- D) Empati

7) Ülkemizde sosyal yardım hizmetlerini en yaygın, kapsamlı ve organize biçimde yürüten devlet kurumudur. İllerde valiliklere, ilçelerde ise kaymakamlıklara bağlı olarak faaliyetlerini yürütmektedir. Sosyal yardımların hedef kitlesi sosyal güvencesi bulunmayan ihtiyaç sahibi vatandaşlardır. Yukarıda bazı özellikleri verilen kurum aşağıdakilerden hangisidir?

- A) Sosyal Yardımlaşma ve Dayanışma Vakfı
- B) Darüşşafaka
- C) Türk Eğitim Vakfı
- D) Darülaceze Başkanlığı

8) "Bir elin nesi var iki elin sesi var." Atasözü "Komşusu aç iken tok yatan bizden değildir." Hadis-i şerif. Yukarıda yer alan bilgiler aşağıdakilerden hangisi ile ilgilidir?

- A) Yardımlaşma ve dayanışma.
- B) Toplumsal ayrımcılık
- C) Cinsiyet ayrımcılığı
- D) Farklılıklarımız

9) Kırsal kesimlerde ortak ya da kişisel işlerin el birliğiyle ve sırayla yapılmasına dayanan geleneksel yardımlaşmaya .....denir.

Yukarıdaki **boşluğa** aşağıdaki hangi kavram gelmelidir?

- A) İmece
- B) Yardımlaşma
- C) Dayanışma
- D) Birlik ve beraberlik

10) Kişi; ailede kardeş, okulda öğrenci, oyun grubunda takım kaptanı, toplu taşıma aracında yolcu, pazarda müşteri vb. roller içerisinde olabilir.

Yukarıdaki açıklamaya göre aşağıdaki yorumlardan hangisi **yapılamaz**?

- A) Bireylerin birden fazla rolü vardır.
- B) Roller kültüre göre değişiklik gösterir.
- C) Farklı ortamlarda farklı roller ortaya çıkabilir.
- D) Bireyler doğuştan ve sonradan kazanılan rollere sahiptir.



- ❖ Aynı duygu, düşünce ve amaçlar içerisinde Olan insanlar bir araya geldiklerinde, anlaşılabilir, kaynaşabilir, duygu ve düşüncelerini paylaşabilirler.
- ❖ Bireylere yaşadığı toplumun geçmişini öğretip kendi milletini tanımasını böylece millî tarih ve millî kimlik bilinci kazanmasını sağlar.

11) Yukarıda milli kültürümüzü oluşturan hangi öge hakkında sırasıyla bilgi verilmiştir?

- A) Dil - Din                      B) Din – Sanat  
C) Dil - Tarih                    D) Gelenek – Görenek

- Bir iş grup ya da kurumda bir kimse ya da bir şeyin üstüne düşen göreve.....denir.
- Kişinin üzerine aldığı görevi yerine getirmesine.....denir.
- Herhangi bir şeyi yapabilmek yetkisine.....denir.

12) Yukarıdaki boşluğa aşağıdaki hangi kavramlar sırasıyla gelmelidir?

- A) Hak-sorumluluk-rol  
B) Rol-sorumluluk-hak  
C) Grup-rol-sorumluluk  
D) Rol-hak-grup

13) Rollerimiz doğuştan kazanılan ve sonradan kazanılan roller olarak ikiye ayrılır. Yukarıdaki açıklamaya göre aşağıdakilerden hangisi farklı bir rol çeşididir?

- A) Sınıf Başkanı              B) Öğretmen  
C) Evlat                         D) Ev sahibi

14) Aşağıdakilerden hangisi **çocuk hakları** sözleşmesine göre çocukların haklarından biri değildir?

- A) Düşünce Özgürlüğü  
B) Yaşama Hakkı  
C) Din ve vicdan özgürlüğü  
D) Çalışma Hakkı

15) Anayasanın 74. maddesine göre haklarının çiğnendiğini düşünen herkesin yetkili kuruluşlara başvurarak **sorun ve şikâyetlerine çözüm aradığı hakkı** aşağıdakilerden hangisidir?

- A) Dilekçe Hakkı  
B) Bilgi Edinme Hakkı  
C) İstek ve Şikâyet Hakkı  
D) Düşünce Özgürlüğü

16) **Ön yargı**, "Bir kimse veya bir şeyle ilgili olarak belirli şart, olay ve görüntülere dayanarak önceden edinilmiş olumlu veya olumsuz yargı, peşin yargıdır."

**Bu açıklamaya göre aşağıdaki örnek cümlelerden hangisi "Ön yargı" içermez?**

- A) Ceren, bu sınavdan kesin zayıf alır.  
B) Sema'nın bizimle gelmeyeceğinden eminim.  
C) Yunus bırak müdürlüğü çaycılık bile yapamaz.  
D) Mesut derslerine iyi çalışırsa sınavı kazanabilir.

**17) Tüketicilerin ister mesafeli alışverişlerde ister doğrudan alışverişlerde aldıkları her türlü ürün ve hizmetlere yönelik şikâyetlerini bildirebilecekleri, problem ve mağduriyetlerine çözüm arayabilecekleri hat ile Radyo ve televizyon yayınları hakkında gelen şikâyetleri değerlendirmek için kurulmuş kuruluşun hattı aşağıdakilerden hangisidir?**

- A) ALO 155 - ALO 175
- B) ALO 150 - ALO 178
- C) ALO 175 - ALO 178
- D) ALO 184 – ALO 112

Topraktandır cümle beden  
Nefsini öldür, ölmeden  
Böyle emretmiş yaradan  
Sen kalemsin, ben uç muyum? ( Aşık Veysel)

**18)Şiirden hareketle aşağıdakilerden hangisi söylenbilir?**

- A) Önyargılarımızla hareket etmeliyiz.
- B) Bireysel farklılıklara saygı göstermeliyiz.
- C) Hak ve sorumluluklarımızın bilincinde olmalıyız.
- D) Şiir okumayı alışkanlık edinmeliyiz.

**19) Son yapılan değişiklikle POLİS, JANDARMA, AMBULANS, İTFAİYE, AFAD (afet acil durum) ve ORMAN hangi tek numarada toplanmıştır?**

- A) ALO 155
- B) ALO 147
- C) ALO 175
- D) ALO 112

**20) Birleşmiş Milletler tarafından oluşturulmuş, amacı çocuk haklarını korumak olan kuruluşun adı aşağıdakilerden hangisidir?**

- A) UNESCO
- B) ILO
- C) WHO
- D) UNICEF

- Dilimize Farsçadan girmiştir.
- Sözlükte haber getiren, haberci, elçi anlamlarına gelmektedir.

**1) Yukarıda hakkında bilgi verilen dini kavram aşağıdakilerden hangisine aittir?**

- A) Melek      B) Peygamber  
C) Vahiy      D) Suhuf

**2) Aşağıda verilenlerden hangisi peygamberlere iman ile ilgili yanlış bir bilgi içermektedir?**

- A) Peygamberlerden birini inkar etmek, hepsini inkar etmek anlamına gelir.  
B) Peygamberler arasında ayırım yapmadan tümüne iman edilmelidir.  
C) Peygamberlerin ortak amaçlarından biri, insanları Yüce Allah hakkında doğru bilgilendirmektir.  
D) Hz. Muhammed'den (sav) önce peygamberler geldiği gibi sonrasında da peygamberler gelecektir.

**3) Peygamberlere inanmak, Allah tarafından çeşitli zamanlarda peygamberler gönderildiğine, gönderilen peygamberlerin haber verdiği her şeyin doğru olduğuna şüphe etmeksizin iman etmek demektir. Allah, insanlık tarihinin başlangıcından günümüze kadar olan zaman diliminde pek çok peygamber göndermiştir. Bunların sayısı hakkında kesin bir bilgimiz bulunmamaktadır.**

**Paragrafta verilen bilgilerde aşağıdakilerden hangisine ulaşamaz?**

- A) Peygamberlerin sayısı hakkında net bir bilgi bulunmamaktadır.  
B) Peygamberlere iman, onların getirdiği bilgilere de inanmayı gerektirir.  
C) İlk peygamber Hz. Adem, son peygamber Hz. Muhammed (sav) olmuştur.  
D) İnsanlık tarihinde çok sayıda peygamber yer almaktadır.

**4) Kur'an-ı Kerim'de, peygamberlerden bazılarının adı belirtilmekte, bir kısım peygamberlerin ise hayat hikayeleri ve tevhit mücadeleleri hakkında bilgiler verilmektedir. Kur'an'da adı geçen peygamberlerin sayısı 25'tir.**

**Aşağıda verilen peygamberlerden hangisinin adı Kur'an-ı Kerim'de yer almamaktadır?**

- A) Hz.Zülkifl      B) Hz.Hud  
C) Hz.Lut      D) Hz.Şit

**5) Kuran'da ismi geçen ancak peygamber olup olmadıkları konusunda farklı görüşler ileri sürülen üç isim vardır. Bu üç isim, hangi seçenekte doğru olarak verilmiştir?**

- A) Hz.Lokman-Hz.Üzeyir-Hz.Zülkarneyn  
B) Hz.Yunus-Hz.Yusuf-Hz.Yahya  
C) Hz.Lut-Hz.Hud-Hz.Şuayb  
D) Hz.Davud-Hz.Süleyman-Hz.Yakup

6) “Şüphesiz benimle benden önceki peygamberlerin durumu şu örneğe benzer: Bir adam bir ev yaptırmış, onu güzel bir şekilde tamamlamış, süslemiştir. Yalnız evin bir köşesinde bir kerpiçlik boş yer kalmıştır. Bu vaziyette insanlar binaya girip gezmeye başladılar ve o eksik yeri görüp hayret ederek ‘Aa! keşke şu tek kerpiç de yerine konsaydı’ derler. İşte be, o boş bırakılan yeri dolduran kerpiç gibiyim...” (Hz. Muhammed sav )

**Yukarıda verilen hadiste Hz. Muhammed (sav) , kendisinin hangi özelliğini dile getirmektedir?**

- A) Allah tarafından insanlara rahmet olarak gönderildiğini
- B) Allah tarafından gönderilen son peygamber olduğunu
- C) Evinin kerpiçten yapıldığını ve bir tuğlasının eksik olduğunu
- D) Kendisinin insanlar tarafından güven duyulan birisi olduğunu

7) “...Allah, elçilik görevini kime vereceğini daha iyi bilir...” Enam suresi 124. ayet

**Yukarıda verilen ayette aşağıdakilerden hangisi vurgulanmaktadır?**

- A) Peygamberlerin haber verdiği her şeyin doğru olduğu
- B) Peygamberler arasında ayırım yapılmaması gerektiği
- C) Allah’ın dilediğini peygamber olarak seçip görevlendirdiği
- D) Allah’ın insanlara pek çok peygamber gönderdiği

8) Peygamberlik çalışıp çabalayarak elde edilmez. Rabbimiz kulları arasında dilediğini peygamber olarak seçer ve görevlendirir.

**Bu durum aşağıda verilen ayetlerden hangisiyle en iyi şekilde belirtilmektedir?**

- A) “...Allah elçilik görevini kime vereceğini daha iyi bilir...” Enam suresi 124. ayet
- B) “Peygamber, Rabbi tarafından kendisine indirilene iman etti, müminler de iman ettiler...” Bakara suresi 285. ayet
- C) “Her millet için mutlaka bir uyarıcı (peygamber) bulunmuştur.” Fatır suresi 24. ayet
- D) “...Biz bir peygamber göndermedikçe (kimseye) azap edecek değiliz...” İsrâ suresi 15. ayet

9) İnsanları yıllarca benimsedikleri inançtan vazgeçirmek, onlara gittikleri yolun yanlış olduğunu söylemek ve bunu kabul ettirmek kolay bir iş değildir. Peygamberler, böylesine zor bir görevi başarmak için Allah tarafından seçilmiş elçilerdir. Bu kadar önemli ve zor bir görevi başarmak üzere yola çıkan peygamberlerin, görevlerinin gereği olarak bazı ortak özellikleri bulunmaktadır. Bu özelliklere “Peygamberlerin sıfatları” denilmektedir.

**Aşağıda verilen kavramlardan hangisi peygamberlerin sıfatlarından biri değildir?**

- A) Sıdk B) İsmet C) Keramet D) Fetanet

**10)** Doğru olmak demektir. Allah tarafından gönderilen bütün peygamberler doğru sözlü, dürüst kimselerdir. nlar ister görevleriyle alakalı hususlarda isterse günlük hayatla ilgili konularda olsun asla yalan söylememişlerdir.

**Yukarıdaki paragrafta hakkında bilgi verilen peygamber sıfatı aşağıdakilerden hangisidir?**

- A) Sıdk B) Emanet C) Tebliğ D) İsmet

**11)** Peygamber Efendimiz (sav) buyurdu ki:

“Ben, şaka da olsa sadece doğruyu, hak ve hakikati söylerim.”

**Yukarıda verilen hadiste Peygamber Efendimiz, kendisi ve peygamberlerin ortak özelliklerinden hangisini dile getirmektedir?**

- A) Emanet B) Fetanet C) Sıdk D) Tebliğ

**12)**

- Güvenilir olmak demektir. Bütün peygamberler söz ve davranışlarıyla insanlara güven duygusu vermişler, her zaman güvenilir kişiler olmuşlardır.

**Yukarıdaki paragrafta hakkında bilgi verilen peygamber sıfatı aşağıdakilerden hangisidir?**

- A) Sıdk B) Emanet C) Fetanet D) İsmet

- İlahi mesajları insanlara olduğu gibi açıklamak, iletmek anlamına gelmektedir.
- Akıllı ve zeki olmak anlamına gelmektedir.
- Günahтан uzak durmak, günah işlememek demektir.

**13)** Yukarıda kısaca tanımları verilen peygamber sıfatları hangi şıkta doğru olarak sıralanmıştır?

- A) Sıdk-Emanet-Fetanet  
B) Sıdk-Fetanet-Emanet  
C) Tebliğ-Fetanet-İsmet  
D) Tebliğ-İsmet-Fetanet

**14)** Peygamberler ilahi mesajlara ne bir ekleme yapmışlar nede bunlardan bir şeyler eksiltmiş ve gizlemişlerdir. Onlar, ne pahasına olursa olsun hiç korkmadan, çekinmeden ilahi emir ve yasakları insanlara ulaştırmışlardır. Kur'an-ı Kerim'de: “O peygamberler ki Allah'ın gönderdiği emirleri duyururlar, Allah'tan korkarlar ve O'ndan başka kimseden korkmazlar...” buyurularak bu husus belirtilmektedir.

**Yukarıdaki paragrafta hakkında bilgi verilen peygamber sıfatı aşağıdakilerden hangisidir?**

- A)Fetanet B)Tebliğ C)İsmet D)Cesaret



**15) Peygamberlerin kendilerine inanmayan insanlara peygamberliklerini ispat etmek amacıyla Allah'ın izniyle gösterdikleri olağan üstü olaylara denir. Örneğin Hz. İbrahim'i ateşin yakmaması.**

**Yukarıda tanımı ve örneği verilen dini kavram aşağıdakilerden hangisidir?**

A) Keramet B) Mucize C) Büyü/Sihir D) Fetanet

**16) Aşağıdakilerin hangisinde peygamber ve o peygamberin gösterdiği mucizesi yanlış eşleştirilmiştir?**

- A) Hz. Musa-Asasının yılanı dönüşmesi  
 B) Hz. İsa-Ölüleri diriltmesi  
 C) Hz. Muhammed-Körleri iyileştirmesi  
 D) Hz. İbrahim-Ateşin yakmaması

**17) Peygamberlerle ilgili olarak aşağıda verilen bilgilerden hangisi yanlıştır?**

- A) İnsanları çeşitli konularda uyarmış, onlara müjdelere vermişlerdir.  
 B) Yanlış inanç ve davranışlara yönelenlerin Allah tarafından cezalandırılacağını söylemişlerdir.  
 C) İnsanlara inanç konusunda baskı yapmışlar, onları inanmaya zorlamışlardır.  
 D) İnsanlara ibadetlerin nasıl ve niçin yapılması gerektiğini öğretmişlerdir.

**18) Bütün peygamberler gönderildikleri toplumlara Allah'ın bir olduğunu, O'ndan başka tanrıların varlığını kabul etmenin sapkınlık ve yanlış bir inanç olduğunu açıklamışlardır. İnsanları Yüce Yaradan'a kulluk etmeye çağırmışlardır. Peygamberler sadece Allaha kulluk edilmesi gerektiğini belirtmiş, Allah'tan başka ibadete layık hiçbir varlığın olmadığını açıklamışlardır.**

**Yukarıda sözü edilen ve bütün peygamberlerin insanlarda oluşturmak istedikleri bu tek Allah inancına ne ad verilmektedir?**

A) Tevhid B) Şehadet C) Risalet D) Salavat

- Allah'a inanmakla birlikte onunla beraber başka varlıkları da tanrı kabul etmek, Allah'a başka bir varlığı denk görmek, Allah'a ortak koşmak demektir.

**19) Yukarıda tanımı verilen kavram aşağıdakilerden hangisidir?**

A) Tevhid B) Şirk C) İnkâr D) İman

**20) Kur'an-ı Kerim'de bazı peygamberlerin yapmış oldukları dualar yer almaktadır. Örneğin; "Ey Rabbim! Beni ve soyumdan gelen iyi insanları, namazı dosdoğru kılanlardan eyle, dualarımızı kabul eyle." Bu dualardan biridir.**

**Yukarıda verilen ve Kur'an'da yer alan bu dua hangi peygambere aittir?**

- A) Hz. İbrahim B) Hz. Muhammed  
 C) Hz. Yunus D) Hz. Davud

1) Morgan: .....

Andrew: At about 8 o'clock after I get dressed.

- A) What do you do on weekdays?  
 B) What do you have for breakfast?  
 C) Do you run errands at home?  
 D) What time do you have breakfast?



On Sundays, I wake up late. After I have breakfast, I watch cartoons.

2) Which of the following IS NOT mentioned in the speech bubble?



3) Daniel: What do you do after school?  
 Paul: .....

Which of the following DOES NOT complete the dialogue?

- A) I usually take care of my dog.  
 B) I finish my homework.  
 C) I visit my grandmother and run errands for her  
 D) I wake up early in the morning.

- a. When is your birthday?  
 b. What time does your school start?  
 c. When do you attend the English course

- I. At a quarter to eight.  
 II. On Tuesdays and Fridays.  
 III. It is 15 November, 2008

4) Match the questions with the answers.

- A) a-III / b-I / c-II  
 B) a-III / b-II / c-III  
 C) a-II / b-I / c-III  
 D) a-I / b-III / c-II

	13:30	14:45	16:00	19:15
Mark	Take a nap	Attend English class	Visit Grandmother	Finish homework

5) Which of the following is TRUE about Mark?

- A) He visits his grandmother at five o'clock.  
 B) He takes a nap at half past one.  
 C) He attends English class at two o'clock.  
 D) He finishes his homeworks at fifteen past six.



6)Which of the following DOES NOT have an answer on the invitation card?

- A)What time is the party?
- B)What day is the party?
- C)Where is the party?
- D)What is the date of the party?

Answer the questions 7 – 9 according to the text below.



..... Hello. I am Zeynep. I am 12 and I am from Turkey. I am a student at secondary school. The school starts at 08:30 in the morning. After school on weekdays, I take care of my dog and help my mother. I attend Spanish class on Wednesday. I listen to music or go to the cinema with my sister on weekends.

7)Which is TRUE about Zeynep?

- A) She is from Spain.
- B) She takes care of her dog at the weekends.
- C) She goes to cinema with her sister.
- D) She doesn't help her mother.

8)What time does Zeynep's school start?

- A) At eight o'clock
- B) At seven o'clock
- C) At half past eight
- D) At a quarter to eight

9)There is no information about Zeynep's..... in the text.

- A) Age
- B) Friends
- C) Activities
- D) Nationality



10) Jess: What do you do after the dance course on weekends?

Betty: I generally ..... for half an hour because i feel very tired after the course.

- A) Have a rest
- B) Run errands
- C) Do homework
- D) Play basketball

11) Ali: How often do you write in your diary?

Ayşe: ..... I hate writing about my day.


- A) Usually
- B) Often
- C) Sometimes
- D) Never



12) Which of the following tells the TRUE time on the clocks above?

- A) It is quarter to two.
- B) It is half past six.
- C) It is half past ten.
- D) It is quarter to four.

13) Cenk's favorite activities



Which of the following is Cenk's favorite activity?

- A) Reading a book
- B) Playing chess
- C) Playing baseball
- D) Taking a nap

14) Samantha : When is your birthday?

James : On the thirteenth of June. When is yours?

Samantha: On the third of July.

Which calendar shows Samantha's birthday party?



**Rachel's Daily Routines**

- |      |   |
|------|---|
| I)   | She has breakfast at 8 o'clock                    |
| II)  | She has a shower before she goes to bed at night. |
| III) | She wakes up at 7:00 am.                          |
| IV)  | She goes to guitar course at 5:30pm.              |

15) Which of the following is the correct order of Lucy's daily routines?

- A) III – I – IV – II  
 B) IV – II – I – III  
 C) IV – I – II – III  
 D) III – II – IV – I



16) According to the pictures, Nancy doesn't.....

- A) Go shopping with her mother  
 B) Listen to music  
 C) Take her dog for a walk  
 D) Go to dance course

17) What is the day after Saturday?

- A) Monday      B) Sunday  
 C) Tuesday      D) Thursday

September	October		December
-----------	---------	--	----------

18) What is the missing month?

- A) July      B) January  
 C) November      D) August

Eric and his friends' lesson finish at 14:00. After school, Eric takes care of his dog. Emma goes to dance class. Mary goes home and helps her mother. Sam rides a bike at the park.



shutterstock.com • 753930034

19) Who does the picture show according to the text above?

- A) Eric      B) Sam  
 C) Mary      D) Emma

20) Which of the picture – phrase is NOT CORRECT ?



A) - have dinner



B) - keep a diary



C) - go jogging



D) - take care of the dog

## CEVAP ANAHTARI

## TÜRKÇE

1. D
2. B
3. A
4. C
5. A
6. B
7. B
8. A
9. B
10. A
11. A
12. D
13. B
14. C
15. A
16. D
17. B
18. C
19. A
20. C

## MATEMATİK

1. A
2. D
3. C
4. A
5. B
6. C
7. D
8. C
9. A
10. B
11. B
12. D
13. C
14. A
15. D
16. C
17. A
18. A
19. C
20. D

## FEN BİLİMLERİ

1. D
2. D
3. B
4. B
5. C
6. C
7. A
8. B
9. C
10. D
11. B
12. B
13. B
14. C
15. C
16. B
17. A
18. C
19. C
20. B

## SOSYAL BİLGİLER

1. D
2. C
3. D
4. B
5. A
6. A
7. A
8. A
9. A
10. B
11. C
12. B
13. C
14. D
15. A
16. D
17. C
18. B
19. D
20. D

## DİN KÜLTÜRÜ VE AHLAK BİLGİSİ

1. B
2. D
3. C
4. D
5. A
6. C
7. C
8. A
9. C
10. A
11. C
12. B
13. C
14. B
15. B
16. C
17. C
18. A
19. B
20. A

## İNGİLİZCE

1. D
2. C
3. D
4. A
5. B
6. C
7. C
8. B
9. B
10. A
11. D
12. C
13. A
14. B
15. A
16. D
17. B
18. C
19. D
20. A

# EMEĞİ GEÇEN ÖĞRETMENLERİMİZ

## SIİRT MİLLİ EĞİTİM AR-GE BİRİMİ

Murat Ekinci

**Koordinatör**

Kübra Saran

**Bilişim Teknolojileri Öğretmeni**

Özlem Ekin

**Türkçe Öğretmeni**

Mustafa Korkut

Nimet Bartık

Fatma Oral

Mehmet Fatih Çelapkolu

Meral Tanrıöver

**Matematik Öğretmenleri**

İdris Akdemir

**Din Kültürü ve Ahlak Bilgisi Öğretmeni**

Mahmut Ekinci

Gözde Özgün

Abdullah Esmer

Yonca Tan

**Fen Bilimleri Öğretmenleri**

Hüseyin Aydın

Şükrü Özer

**Sosyal Bilgiler Öğretmenleri**

Ünzile Saklan

**İngilizce Öğretmeni**