

1.



**Neden - sonuç zincirini devam ettirebilmek için (?) yere aşağıdakilerden hangisi yazılmalıdır?**

- A) Amasya Görüşmeleri  
B) Sivas Kongresi  
C) TBMM'nin açılması  
D) Havza Genelgesi

2.

"... tam bağımsızlık ile yaşamak için kesin olarak kararlı bulunan ve ezelden beri hür ve başına buyruk yaşamış olan milletimiz, kölelik durumunu son derece ve kesinlikle reddetmiş ve hemen vekillerini toplamaya başlayarak yüksek meclisini meydana getirmiştir."

(Atatürk)

**Buna göre Atatürk'ün TBMM için söylediği sözlerden yola çıkarak TBMM'nin açılması ile aşağıdakilerden hangilerinin bir arada amaçlandığı söylenebilir?**

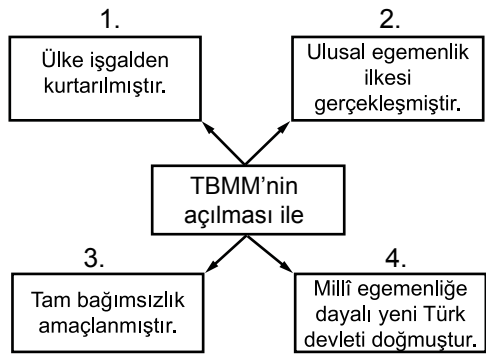
- A) Ulusal bağımsızlık - Ulusal egemenlik  
B) Ulusal egemenlik - Çağdaşlaşma  
C) Ulusal bağımsızlık - Çağdaşlaşma  
D) Çağdaşlaşma - Halifeliğin baskıdan kurtulması

3.

**Sevr Antlaşması'na göre Osmanlı Devleti'nin sınırları ile ilgili olarak aşağıdakilerden hangisi söylenebilir?**

- A) Osmanlı Devleti parçalanmıştır.  
B) Ekonomik bağımsızlık kazanılmıştır.  
C) Manda ve himaye kabul edilmiştir.  
D) Millî Mücadele başarıya ulaşmıştır.

4.



**Verilen şemada TBMM'nin açılması ile ilgili verilenlerden hangisi yanlıştır?**

- A) 1. B) 2. C) 3. D) 4.

5.



**Verilen diyagramda "?" ile gösterilen yere aşağıdakilerden hangisi getirilmelidir?**

- A) Çerkez Ethem Ayaklanması  
B) Demirci Mehmet Efe Ayaklanması  
C) Pontus Ayaklanması  
D) Milli Aşireti Ayaklanması

6.

TBMM, Sevr Barış Antlaşması'nı kabul etmemiş, edenleri de vatan haini ilan etmiştir.

**Buna göre, aşağıdakilerden hangisi TBMM'nin bu yöndeki tutumu olabilir?**

- A) Millî Mücadele'ye devam etmesi  
B) İtilaf Devletleri'yle işbirliği yapması  
C) Manda yönetimini kabul etmesi  
D) İstanbul Hükûmeti'ne bağlılığını bildirmesi

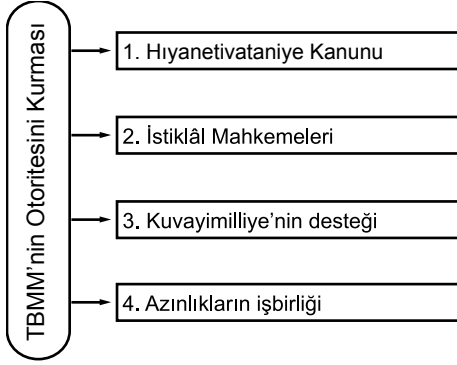
7.

TBMM Hükûmeti isyanlara karşı güvenliği sağlamak için bazı tedbirler alma gereği duydu.

**Aşağıdakilerden hangisi bu tedbirlerden biridir?**

- A) İstanbul Hükûmeti ile görüşme  
B) Misakımillî kararlarını alma  
C) Bölgesel kongre düzenleme  
D) Hıyanetivatanıye Kanunu'nu çıkarma

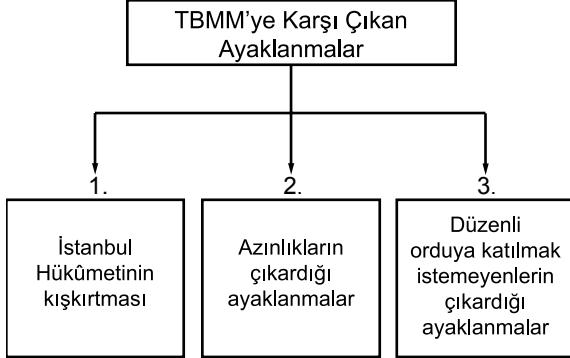
8.



TBMM'nin otoritesini sağlayan gelişmelerle ilgili verilenlerden hangisi **yanlıştır**?

- A) 4. B) 3. C) 2. D) 1.

9.



Buna göre;

- ▲ Çerkez Ethem ayaklanması
- Ermenilerin ayaklanması
- Afyon ayaklanması

ayaklanmalarının ait olduğu numaralar, aşağıdakilerin hangisinde doğru sıralanmıştır?

- A) ▲ - 1  
■ - 2  
● - 3
- B) ▲ - 3  
■ - 2  
● - 1
- C) ▲ - 1  
■ - 3  
● - 2
- D) ▲ - 3  
■ - 1  
● - 2

10.

1. Birlik ve beraberliği sarsmıştır.
2. Kurtuluş mücadelesini geciktirmiştir.
3. Kardeş kanının akıtılmasına neden olmuştur.

Yukarıda verilenler, aşağıdakilerden hangisiyle gerçekleşmesiyle ortaya çıkmıştır?

- A) Sevr Barış Antlaşması'nın imzalanması  
B) TBMM'ye karşı isyanların çıkması  
C) Misakımilli'nin ilanı  
D) Amasya Genelgesi'nin yayınlanması

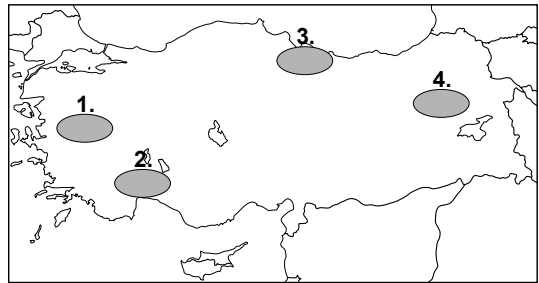
11.



Verilen özelliklere bakarak "?" olan yere aşağıdakilerden hangisi gelmelidir?

- A) Mondros Ateşkes Antlaşması  
B) Uşi Antlaşması  
C) Sevr Barış Antlaşması  
D) İstanbul Antlaşması

12.



Sevr Barış Antlaşması'na göre yukarıdaki haritada numaralandırılarak verilen bölgelerin hangisinde Ermeni Devleti'nin kurulması amaçlanmıştır?

- A) 1. B) 2. C) 3. D) 4.